



**ECONOMÍA**  
**NIVEL MEDIO**  
**PRUEBA 2**

Lunes 9 de noviembre de 2009 (mañana)

2 horas

---

**INSTRUCCIONES PARA LOS ALUMNOS**

- No abra esta prueba hasta que se lo autoricen.
- Conteste tres preguntas.
- Utilice diagramas correctamente rotulados y referencias al texto / a los datos, cuando corresponda.

1. *Lea detenidamente el siguiente fragmento y conteste todas las partes de la pregunta que figuran a continuación.*

### **El aumento del precio del cereal se siente en todo el mundo**

#### Texto 1

##### La Unión Europea (UE) aprueba un plan para incrementar la producción de trigo

Los ministros de agricultura de la UE han aprobado un plan para aumentar la producción de trigo y de otros cereales en los 27 países de la unión en respuesta al aumento de la escasez en el **mercado** mundial. Esta decisión significa que los cultivadores europeos de cereales pueden hacer caso omiso de una política de retirada de tierras de la UE de 1992, que impide que los países europeos cultiven el 10% del total de sus tierras. La política de retirada de tierras se diseñó para evitar la sobreproducción y preservar el hábitat natural de la fauna salvaje.

Autoridades de la UE han afirmado que se necesita urgentemente el aumento del uso de las tierras para enfrentarse a los problemas que han provocado las malas cosechas de este año en Europa, Australia y en otros muchos sitios. La sequía, junto con las actuales restricciones sobre cómo llevar a cabo algunos cultivos, ha provocado unos precios de mercado inestables. Los consumidores de todo el mundo han visto cómo las últimas semanas han subido drásticamente los precios del pan, la pasta y los productos cárnicos por el aumento del precio del trigo y de otros cereales.

La eliminación de la política de retirada de tierras ha sido muy bien recibida. A medida que aumenta la población mundial, aumenta la demanda de alimentos. Se debería permitir que los productores respondan a la demanda sin que se lo impidan los gobiernos. La política de retirada de tierras ha favorecido a los productores ineficientes y poco productivos a costa de los que son eficientes y productivos. Debe permitirse que prevalezcan las fuerzas de mercado.

[Fuente: adaptado de *Associate Press in Business Week*, Constant Brand, 26 de septiembre de 2007 y de *telegraph.co.uk*, 27 de septiembre de 2007]

#### Texto 2

##### Los panaderos de Israel exigen la eliminación de los precios máximos

Tras el aumento drástico del precio de la harina este año debido a la escasez internacional de trigo, las panaderías de Israel amenazan con no suministrar pan a los consumidores si el gobierno no elimina el precio máximo del pan.

[Fuente: adaptado de *Israel Money*, Navit Zomer, 20 de septiembre de 2007]

#### Texto 3

##### Peticiones de reducción de los aranceles en Swazilandia

El precio del pan va a aumentar en respuesta al incremento del precio del trigo. Los abastecedores de trigo han afirmado que van a aumentar el precio del trigo en un 35% como consecuencia de la escasez mundial de trigo. El Presidente de la Asociación de Panaderos de Swazilandia ha declarado que “una forma de enfrentarse a este problema sería reducir el arancel actual sobre el trigo, que es del 8,5%”. Aunque sin duda esto ayudaría a los consumidores, los productores nacionales se tendrían que enfrentar al aumento de la competencia por parte de las importaciones. Además, el gasto público en infraestructura, que es parte de la **política fiscal**, podría verse amenazado.

[Fuente: adaptado de *The Swazi Observer*, 20 de septiembre de 2007]

*(Esta pregunta continúa en la siguiente página)*

*(Continuación de la pregunta 1)*

- (a) Defina los siguientes términos, que aparecen marcados en negrita en el texto:
- (i) mercado (*Texto 1*) *[2 puntos]*
  - (ii) política fiscal (*Texto 3*). *[2 puntos]*
- (b) Utilizando un gráfico apropiado, explique por qué las panaderías de Israel quieren que se elimine el precio máximo del pan (*Texto 2*). *[4 puntos]*
- (c) Utilizando un gráfico de aranceles, explique por qué una reducción del arancel sobre el trigo en Swazilandia “sin duda esto ayudaría a los consumidores” (*Texto 3*). *[4 puntos]*
- (d) Utilizando la información del texto/los datos y su conocimiento de la economía, evalúe la eliminación de la política de retirada de tierras en la Unión Europea y la reducción de los aranceles en Swazilandia como respuestas a la escasez de trigo. *[8 puntos]*

2. *Lea detenidamente el siguiente fragmento y conteste todas las partes de la pregunta que figuran a continuación.*

**La inflación china alcanza un 6,5%, la tasa más alta en casi once años**

- ❶ El rápido aumento del precio de los alimentos ha hecho que la tasa de **inflación** china se eleve a su punto más alto en casi once años. Los precios al consumo subieron hasta el 6,5% en agosto en comparación con un año atrás. El banco central y los economistas se temen que el aumento del precio de los alimentos, en especial del cerdo, lleve al aumento de los precios en toda la economía.
- ❷ El instituto de estadística chino ha afirmado que la inflación se ha visto provocada por un aumento del 18,2% en el coste de los alimentos, que suponen un tercio de la cesta de precios al consumo de bienes y servicios. El precio de la carne subió un 49% en agosto en comparación con el año anterior, reflejando la escasez de cerdo, que es la carne básica en China. Esto vino provocado por una caída del 10% en la población de cerdos en China por el síndrome reproductivo y respiratorio porcino y por el rápido aumento del coste del pienso.
- ❸ Aunque la mayoría de los economistas reconocen que poco es lo que puede hacer el banco central para combatir choques del lado de la oferta como la escasez de cerdos, muchos afirman que puede que el banco central tenga que aumentar los costes de los préstamos una vez más para limitar la inflación y reducir el crecimiento. La inflación ya ha superado el objetivo anual del banco central del 3% por cuarto mes consecutivo. Para evitar el exceso de crecimiento del PIB real, el banco central ya ha aumentado cuatro veces este año los **tipos de interés**.
- ❹ También es motivo de preocupación que el superávit comercial y por cuenta corriente estén creando más presión inflacionista. Estos superávits pueden ser el resultado del bajo valor del yuan frente a las divisas extranjeras. El Banco Mundial alerta de que “las medidas deben seguir centrándose en la reducción del superávit por cuenta corriente pero también deben prestar atención al crecimiento general de la demanda. Esto se lograría fomentando las importaciones o reduciendo las exportaciones, y ambas cosas pueden lograrse con un tipo de cambio más fuerte”.
- ❺ El aumento del coste de los productos del día a día hace que la gente se queje y esto preocupa a los líderes chinos. La inflación fue uno de los factores del descontento que condujo a las protestas de la plaza de Tiananmen de 1989, que fueron aplastadas por el ejército. Sin embargo, ahora puede que la gente esté igual de descontenta si se vuelven a subir los tipos de interés para reducir la presión inflacionista.

[Fuente: adaptado de *International Herald Tribune*, *Bloomberg News*, *Reuters*, 11 de septiembre de 2007 y de *Sydney Morning Herald*, John Garnaut, *Asia Economics Corresponding in Beijing*, 13 de septiembre de 2007]

*(Esta pregunta continúa en la siguiente página)*

*(Continuación de la pregunta 2)*

- (a) Defina los siguientes términos, que aparecen marcados en negrita en el texto:
- (i) **inflación** (*párrafo ❶*) *[2 puntos]*
  - (ii) **tipos de interés** (*párrafo ❸*). *[2 puntos]*
- (b) Utilizando un gráfico apropiado, explique el impacto del síndrome reproductivo y respiratorio porcino en el mercado de cerdos de China (*párrafo ❷*). *[4 puntos]*
- (c) Utilizando un gráfico apropiado, explique de qué modo el “bajo valor del yuan” puede crear presión inflacionista (*párrafo ❹*). *[4 puntos]*
- (d) Utilizando la información del texto/los datos y su conocimiento de la economía, evalúe las probables consecuencias de la política china de subir los tipos de interés para “evitar el exceso de crecimiento del PIB real” (*párrafo ❸*). *[8 puntos]*

3. Lea detenidamente el siguiente fragmento los datos y conteste todas las partes de la pregunta que figuran a continuación.

**La economía holandesa**

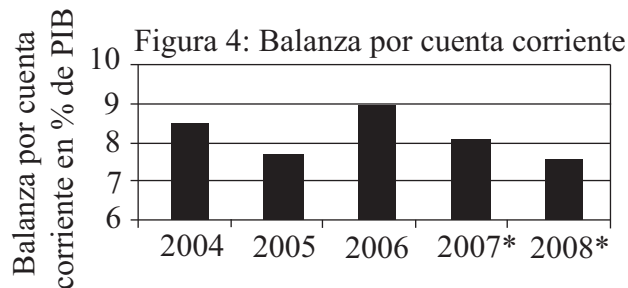
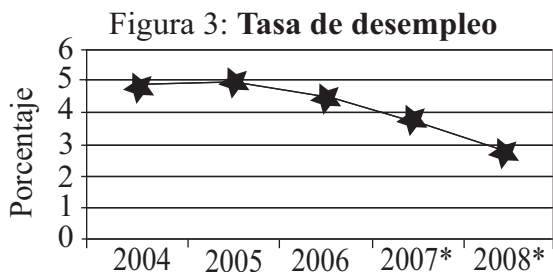
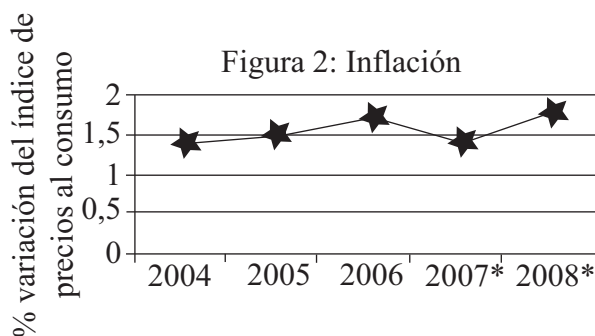
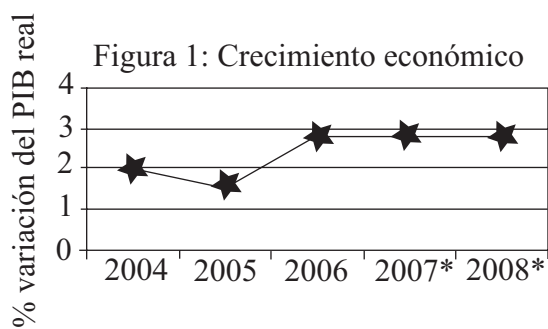
Tabla 1

Gasto por sector	Precios actuales 2003 (€ billones)
<b>Consumo</b>	238
Gasto público	117
Inversión	93
Exportaciones de bienes y servicios	300
Importaciones de bienes y servicios	270

Texto A

La economía tuvo buen crecimiento en el año 2006. El crecimiento económico fue de casi el 3%. Las exportaciones se vieron beneficiadas por una mayor demanda en la zona Euro, pero el crecimiento de las exportaciones puede verse ralentizado como consecuencia del reforzamiento del Euro. El consumo se vio incrementado por el aumento de los salarios reales y la disminución del desempleo. Si el crecimiento económico es mayor de lo esperado, traerá consigo una brecha inflacionaria y el riesgo de un sobrecalentamiento de la economía.

Si esto sucede, debería aplicarse una política tributaria más dura para reducir las presiones sobre la demanda. El gobierno también debería poner en práctica políticas que aumenten la participación en el mercado laboral y el número de horas de trabajo.



[Fuente: adaptado de *The OECD Economic Outlook 81 Database*, junio de 2007]

\* Valores previstos

(Esta pregunta continúa en la siguiente página)

*(Continuación de la pregunta 3)*

- (a) Defina los siguientes términos, que aparecen marcados en negrita en el texto:
- (i) consumo (*Tabla 1*) *[2 puntos]*
  - (ii) tasa de desempleo (*Figura 3*). *[2 puntos]*
- (b) Utilizando los datos de la Tabla 1, calcule el valor del PIB. Explique el cálculo realizado. *[4 puntos]*
- (c) Identifique **una** afirmación positiva y **una** normativa del Texto A. Explique su razonamiento. *[4 puntos]*
- (d) Utilizando la información del texto/los datos y su conocimiento de la economía, evalúe el papel de las políticas del lado de la demanda y las del lado de la oferta en el mantenimiento del crecimiento de la economía holandesa. *[8 puntos]*

4. *Lea detenidamente el siguiente fragmento y conteste todas las partes de la pregunta que figuran a continuación.*

### **La explotación minera del uranio crea polémica**

- ❶ Malawi pronto tendrá su primer proyecto moderno de explotación minera si salen bien los planes de la multinacional australiana Paladin. El gobierno de Malawi le ha concedido a la compañía una licencia de 15 años, con posibilidad de ampliación a otros 10 años. Paladin obtendrá una reducción del impuesto de sociedades de entre un 30% y un 27,5%, y tampoco tendrá que pagar el 10% que corresponde al impuesto sobre alquiler de recursos.
- ❷ La compañía minera ha prometido que el proyecto va a generar unos ingresos anuales de más de USD100 millones, que suponen aproximadamente el 5% del **producto interior bruto** (PIB) anual de Malawi. El proyecto promete crear puestos de trabajo para 800 personas en la fase de construcción y para 280 personas en la fase de funcionamiento. También promete respaldar de forma indirecta más de 1 000 puestos de trabajo adicionales, construir una escuela primaria, una escuela secundaria y un centro de salud cerca de la zona del proyecto.
- ❸ Sin embargo, existe miedo por parte de la opinión pública de que la explotación minera suponga una amenaza seria para la salud. Un grupo de seis **ONGs** de Malawi alega que la compañía no cumple los estándares internacionales de explotación del uranio. Afirman que el uranio es radioactivo y que en una explotación al aire libre la tierra puede derivar hacia los ríos, contaminar el agua y provocar enfermedades mortales.
- ❹ Malawi es uno de los países más pobres del mundo. La inmensa mayoría de su población, que es de 12 millones, vive en comunidades rurales, y solo el 16% vive en zonas urbanas. Este factor, junto con el rápido crecimiento de la población y la erosión del suelo por la deforestación, está sometiendo a una presión considerable al sector agrícola, que supone el 90% de los ingresos por exportaciones de Malawi y el 45% de su PIB.
- ❺ Se calcula que el 57% de la población rural tiene acceso a agua potable, en comparación con el 90% de la población urbana. El acceso a condiciones de salubridad es considerablemente más bajo, ya que solo entre el 15% y el 30% de la población rural tiene acceso a una letrina (baño).
- ❻ Como consecuencia, las enfermedades relacionadas con el agua, como el cólera y el tífus, son frecuentes, problema que está empeorando por la rápida expansión del VIH/SIDA, que ha afectado al 15% de la población rural y al 30% de la población urbana. Casi la mitad de la población es menor de 15 años.

[Fuente: adaptado de *allAfrica.com Inter Press Service* y *Malawi en un vistazo, Ingenieros sin Fronteras, Canadá*, 17 de julio de 2007]

*(Esta pregunta continúa en la siguiente página)*



*(Continuación de la pregunta 4)*

- (a) Defina los siguientes términos, que aparecen marcados en negrita en el texto:
- (i) producto interior bruto (*párrafo ②*) *[2 puntos]*
  - (ii) ONGs (*párrafo ③*). *[2 puntos]*
- (b) Utilizando un gráfico del ciclo de pobreza, explique **uno** de los obstáculos de Malawi al desarrollo. *[4 puntos]*
- (c) Utilizando un gráfico apropiado, explique por qué las actividades de la compañía minera podrían crear externalidades negativas. *[4 puntos]*
- (d) Utilizando la información del texto/los datos y su conocimiento de la economía, evalúe los posibles efectos del proyecto de explotación minera sobre el desarrollo económico de Malawi. *[8 puntos]*

5. *Lea detenidamente el siguiente fragmento y conteste todas las partes de la pregunta que figuran a continuación.*

### Los cultivadores, perjudicados por el bajo precio del té

- ❶ En el mundo se produce tanto té que los británicos ahora pagan mucho menos por su bebida favorita de lo que pagaban hace 30 años.
- ❷ La sobreproducción global, las guerras de precios de los supermercados y la debilidad del dólar significan que el precio es inferior a un penique por taza de té. Un estudio sobre este sector ha revelado que el **precio real** de una taza de té en realidad es una cuarta parte de su precio en 1977.
- ❸ Estas cifras son una buena noticia para el segundo país del mundo que más té consume *per cápita*, aunque son malas noticias para los 36 países cultivadores de té, que el año pasado produjeron 3,5 millones de toneladas de té, 160 000 de las cuales fueron enviadas a Gran Bretaña.
- ❹ El té se cultiva en algunos de los países más pobres del mundo y a menudo es una fuente primaria de ingresos; en Uganda, por ejemplo, ocupa el tercer lugar en ingresos procedentes de las exportaciones. Para muchos cultivadores y recolectores se trata de su única fuente de ingresos.
- ❺ Un consultor del sector del té ha afirmado que “la persistencia de los precios bajos y el deterioro de los términos del intercambio significan que la inversión que estaba prevista en infraestructura tiene que posponerse o cancelarse y que es probable que esto tenga como consecuencia una tasa de crecimiento económico menor de lo esperado. Esto tiene un gran impacto en los pequeños agricultores y añade presión a su supervivencia diaria”.
- ❻ Los importadores británicos de té alegan que muchos países, a la cabeza de los cuales están Bangladesh y Vietnam, están plantando y cultivando muchas más plantas de té de lo que se necesita a nivel mundial por la presión de los agricultores locales pobres, que están desesperados por ganarse la vida de algún modo.
- ❼ El presidente del Comité Británico del Té ha afirmado que “se está cultivando demasiado en algunos países, y es necesario que los productores equilibren la **oferta** y la demanda”.
- ❽ Algunos en el sector opinan que Gran Bretaña no paga bastante por los 165 millones de tazas de té que consume al día, y que un precio ligeramente más alto beneficiaría a los agricultores sin perjudicar a los consumidores.
- ❾ Cafédirect, el mayorista (distribuidor) ético más grande de té y café de Gran Bretaña, que solo comercia con productos de comercio justo, ha declarado que “somos la única marca principal que garantiza un precio mínimo para el té, y este año hemos anunciado un aumento del 8%”.

[Fuente: adaptado de *The Times*, 25 de julio de 2007]

*(Esta pregunta continúa en la siguiente página)*

*(Continuación de la pregunta 5)*

- (a) Defina los siguientes términos, que aparecen marcados en negrita en el texto:
- (i) precio real (*párrafo 2*) *[2 puntos]*
  - (ii) oferta (*párrafo 7*). *[2 puntos]*
- (b) Utilizando un gráfico adecuado, explique el motivo principal del cambio en el precio real del té desde 1977 (*párrafo 2*). *[4 puntos]*
- (c) Utilizando un gráfico de la frontera de posibilidades de la producción (FFP), explique por qué es probable que la reducción de los niveles de inversión que estaban previstos tenga como consecuencia un crecimiento menor de lo esperado (*párrafo 5*). *[4 puntos]*
- (d) Utilizando la información del texto/los datos y su conocimiento de la economía, evalúe **dos** posibles medidas que podrían usarse para mejorar el nivel de vida de los cultivadores de té. *[8 puntos]*
-