



ECONOMÍA
NIVEL MEDIO
PRUEBA 2

Martes 15 de noviembre de 2005 (mañana)

2 horas

INSTRUCCIONES PARA LOS ALUMNOS

- No abra esta prueba hasta que se lo autoricen.
- Conteste tres preguntas.
- Utilice diagramas correctamente rotulados y ejemplos tomados de la realidad, cuando corresponda.

Conteste **tres** preguntas. Cada pregunta vale [20 puntos].

1. Lea detenidamente el siguiente fragmento y conteste todas las partes de la pregunta que figuran a continuación.

Tanzania

- ❶ Tanzania es uno de los países más pobres del mundo. A pesar de su progreso en determinadas áreas, se calcula que su renta *per cápita* en el año 2004 será de aproximadamente de 282 dólares USA. La economía tanzana está muy dominada por la agricultura, que supone un el 45 % del PIB y el 85 % de las exportaciones. Esta dependencia ha tenido como consecuencia el deterioro de los términos del intercambio.
- ❷ Uno de los impedimentos clave para lograr mejoras sostenibles proviene del aumento del número de infectados por el VIH. Junto con otros signos muy preocupantes para el **desarrollo económico** (ver Figura 3), es probable que esto tenga consecuencias negativas para la mano de obra productiva y por tanto para el crecimiento.
- ❸ Otros problemas fundamentales son los mercados de terrenos y laborales ineficientes, el lento progreso en la privatización de los sectores del gas, el agua y la electricidad, la corrupción de la administración y del sistema judicial, y una capacidad humana y física limitadas.
- ❹ El Consejo del Banco Mundial aprobó en junio del año 2000 una Estrategia de Ayuda a Países (EAP) destinada a Tanzania. El enfoque fundamental del préstamo del Banco Mundial es el logro del aumento del crecimiento, la reducción de la pobreza y la puesta en práctica de reformas institucionales para mejorar la calidad del gobierno del país. La estrategia apoya las prioridades del gobierno tanzano en su compromiso con la estabilidad macroeconómica, su nuevo énfasis en el desarrollo rural, la mayor apertura del gobierno y el aumento de la participación del sector privado.

[Fuente: adaptado de *Human Development Report*, de 2002 y *The World Development report*, de 2003]

(Esta pregunta continúa en la página siguiente)

(Continuación de la pregunta 1)

Figura 1
Producto Interior Bruto
(\$USA per cápita)

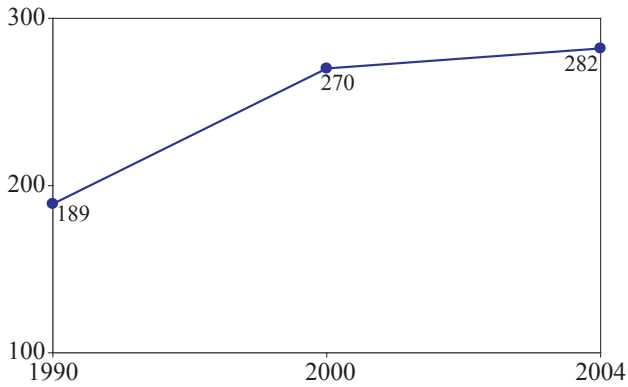


Figura 2
Tasa de Alfabetización
(porcentaje de adultos)

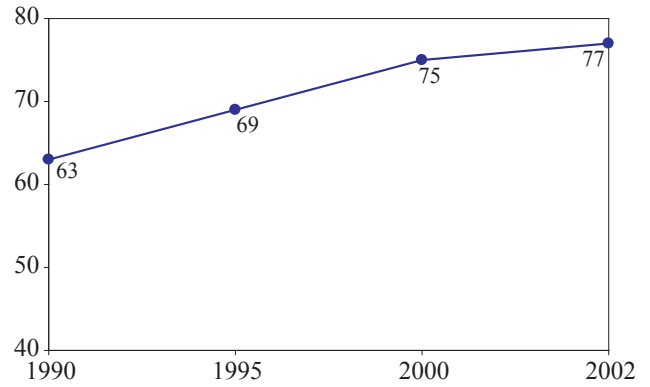
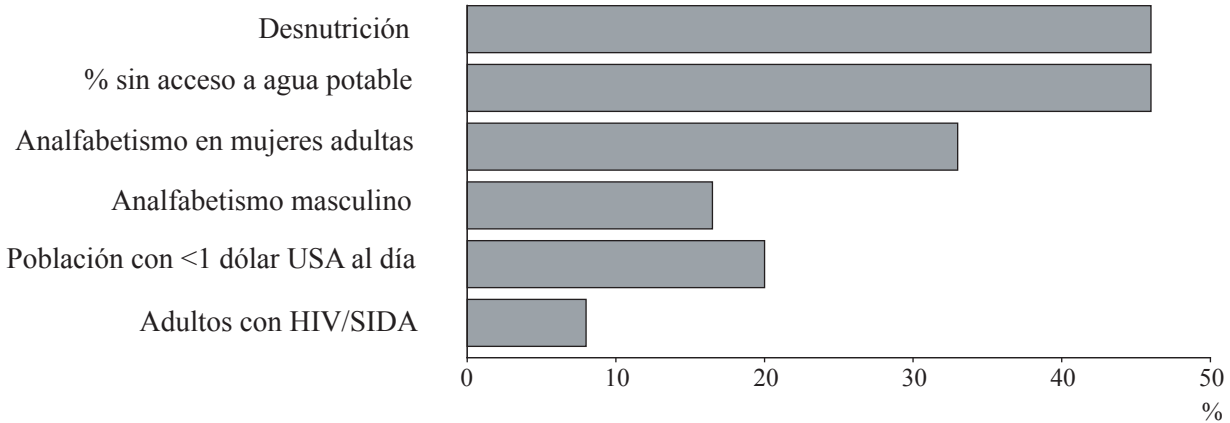


Figura 3
Porcentajes de pobreza



- (a) Defina los siguientes términos, que aparecen marcados en negrita en el texto:
- (i) desarrollo económico (**párrafo 2**) [2 puntos]
 - (ii) Producto Interior Bruto (**figura 1**). [2 puntos]
- (b) Utilizando un gráfico apropiado, explique el efecto de la mejora de la tasa de alfabetización sobre el crecimiento económico, tal y como se muestra en los datos. [4 puntos]
- (c) Explique por qué la importancia de la agricultura en Tanzania puede resultar en el cambio de los términos del intercambio que se sugiere en el texto. [4 puntos]
- (d) Sirviéndose de los datos y de su conocimiento de la economía, evalúe medidas que podrían tomarse para lograr desarrollo en Tanzania. [8 puntos]

2. *Lea detenidamente el siguiente fragmento y conteste todas las partes de la pregunta que figuran a continuación.*

Aumenta la demanda de pollo tras un recorte de los precios

- ❶ La demanda de pollo ha caído tras la amenaza de la gripe aviar¹, que ha hecho que la gente tuviera miedo de comer pollo por miedo a contraer la enfermedad. Como respuesta a esta situación, los avicultores han reducido el precio de venta.
- ❷ Ayer hubo un incremento del 10 % en las ventas tanto de los pollos procesados como de los pollos vivos, y se vendieron unos 800 000 pollos en el mercado nacional. Los recortes de precios se acordaron en una reunión de la Asociación de la Federación de Criadores de Animales de Malasia (AFCAM). La AFCAM es un cártel que fija los precios de venta de animales en Malasia y que controla el 80 % de los proveedores del país. El pollo procesado ahora sólo cuesta 3,20 RM² el kilo, y el pollo vivo 2,80 RM el kilo. Anteriormente los precios eran, respectivamente, 4,00 RM y 3,50 RM.
- ❸ “La respuesta es buena y esperamos que los consumidores se den cuenta de que el pollo que se vende en Malasia es apto para el consumo”, afirmó un portavoz de la AFCAM, quien añadió que el sector se preocupó cuando las ventas cayeron en 300 000 unidades al día tras el brote de gripe aviar en los países vecinos. A diario se destinan aproximadamente 1,1 millones de pollos para satisfacer la demanda de consumo.
- ❹ El portavoz afirmó que la caída de los precios debía vencer el exceso de oferta de pollos en el mercado, y añadió que los criadores avícolas del país estaban llevando a cabo una campaña denominada “Coma Pollo” y además estaban considerando otras medidas de marketing. “Continuaremos con la producción actual de pollo, ya que hemos decidido no reducir la oferta como se había previsto cuando cayeron las ventas”, declaró.
- ❺ Existían temores de que, si se reducía la oferta, tendría que incrementarse el **precio máximo** del pollo que había fijado el Ministerio de Agricultura. La AFCAM estaba considerando la posibilidad de obtener del extranjero el suministro de crías de pollo destinadas a la producción, especialmente de Australia y los países de la Unión Europea, que sustituirían al suministro de los países vecinos, si bien los precios de las nuevas importaciones serían mayores.
- ❻ Los ganaderos tenían la esperanza inicial de que la mala suerte de los avicultores pudiera convertirse en un beneficio para ellos. Sin embargo, ahora es probable que una **elasticidad cruzada de la demanda** positiva y la caída del precio del pollo perjudique a los proveedores de ternera y cordero si continúa aumentando la demanda de pollo.

¹ gripe aviar – enfermedad que contrae el ser humano por ingerir pollo.

² RM – ringit malasio.

[Fuente: adaptado de *The New Straits Times*, Malasia, febrero de 2004]

(Esta pregunta continúa en la página siguiente)

(Continuación de la pregunta 2)

- (a) Defina los siguientes términos, que aparecen marcados en negrita en el texto:
- (i) precio máximo (*párrafo 5*) *[2 puntos]*
 - (ii) elasticidad cruzada de la demanda (*párrafo 6*). *[2 puntos]*
- (b) Utilizando un gráfico de oferta y demanda, explique por qué ha habido un “exceso de oferta de pollos en el mercado” (*párrafo 4*). *[4 puntos]*
- (c) Utilizando un gráfico apropiado, explique el probable efecto que tendrá sobre el mercado de pollos la importación de crías de pollo más caras desde Australia y la Unión Europea. *[4 puntos]*
- (d) Sirviéndose de la información del texto y de su conocimiento de la economía, especialmente de la elasticidad de la demanda, evalúe la situación económica con que se enfrentan los criadores y los consumidores de pollo. *[8 puntos]*

3. *Lea detenidamente el siguiente fragmento los datos y conteste todas las partes de la pregunta que figuran a continuación.*

Austria

Durante mucho tiempo, Austria ha sido uno de los países más ricos de Europa, pero en los últimos años sus resultados han caído por debajo de la media de la OCDE*. El PIB ha crecido un 1,4 % en el año 2002 y las previsiones son que sólo crezca un 0,8 % en el 2003 y un 1,4 % en el 2004, según el último estudio de la OCDE realizado por países. La **tasa de desempleo** (5,6 % en el 2003) aún es baja según los niveles de la OCDE, pero alta según los niveles austríacos. Con un coeficiente alto de personas ancianas en relación con la población activa, Austria ha de enfrentarse a grandes retos. Para estimular su crecimiento potencial, la OCDE cree que Austria necesita aumentar la participación de la población activa, especialmente entre los trabajadores mayores. También necesita fortalecer las finanzas públicas y estimular el crecimiento de la productividad abriendo a la competencia sectores protegidos de su economía, especialmente los servicios. El crecimiento de la productividad en el sector de servicios de Austria ha sido especialmente débil en la última década.

* La OCDE es la Organización para la Cooperación y el Desarrollo Económicos (fundada en 1961).

Sus miembros son los países de la Unión Europea, EEUU, Canadá, Japón, Nueva Zelanda, Australia, México y Turquía.

(Esta pregunta continúa en la página siguiente)

(Continuación de la pregunta 3)

Figura 1

PIB

% de cambio respecto del año anterior

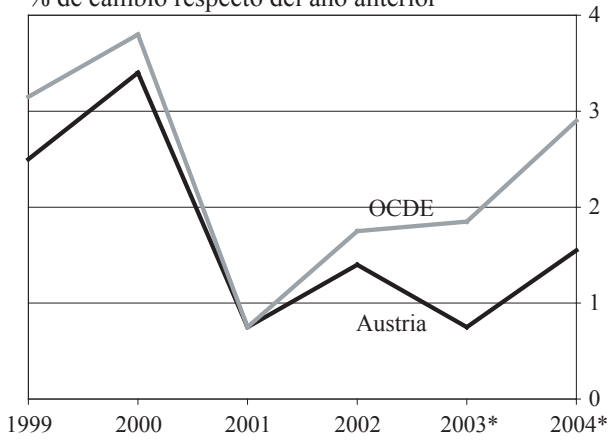


Figura 2

Precios al consumo†

% de incremento respecto del año anterior

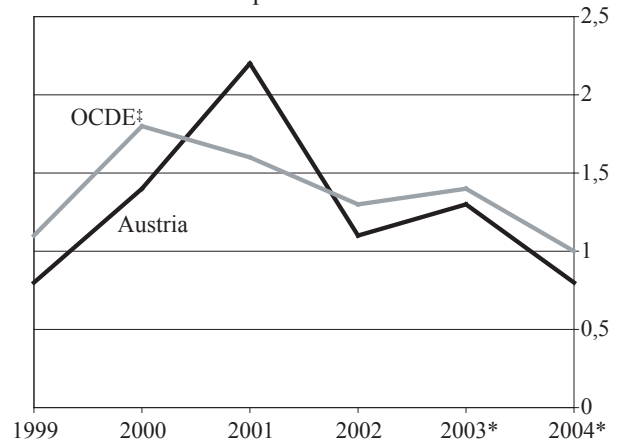


Figura 3

Balanza por cuenta corriente

% del PIB

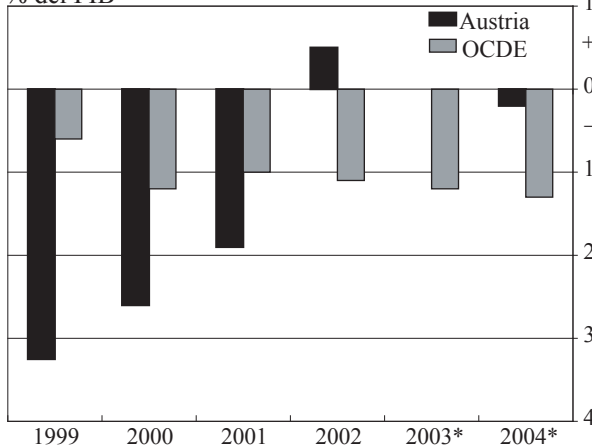
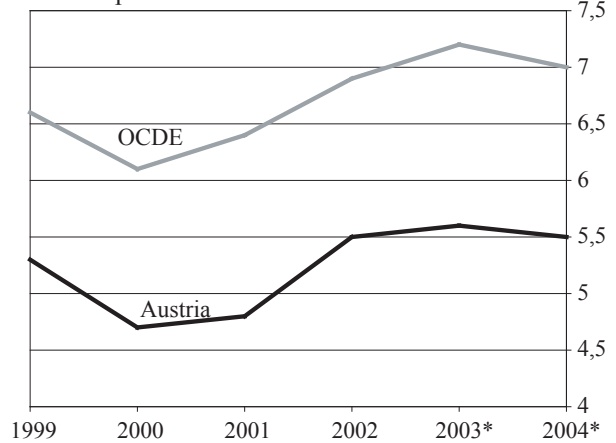


Figura 4

Desempleo

% de la población activa



* Pronóstico † Deflactor del consumo privado ‡ Con la exclusión de Hungría, México, Polonia y Turquía

[Fuente: adaptado de *The Economist*, noviembre de 2003]

(a) Defina los siguientes términos, que aparecen marcados en **negrita** en el texto y en los datos:

(i) **tasa de desempleo** (*el texto*)

[2 puntos]

(ii) **cuenta corriente** (*figura 3*).

[2 puntos]

(b) Utilizando una curva de posibilidades de la producción, explique de qué modo Austria podría “estimular su crecimiento potencial”.

[4 puntos]

(c) Utilizando un gráfico apropiado, explique la relación entre los precios al consumo y el desempleo en Austria entre el 2001 y el 2002.

[4 puntos]

(d) Sirviéndose de la información del texto, de los gráficos y de su conocimiento de la economía, evalúe el comportamiento de la economía austriaca.

[8 puntos]

4. Lea detenidamente el siguiente fragmento y conteste todas las partes de la pregunta que figuran a continuación.

Brasil está entre los primeros puestos con una exportación que arrasa

- ❶ Gracias a una silla de madera de nuevo estilo, una pequeña fábrica familiar de Santo Cristo (Brasil) está a la cabeza de un rápido cambio que se está produciendo en el sector mobiliario de Brasil. La empresa, que se llama *Schuster*, firmó un acuerdo para fabricar una silla para un diseñador italiano. La silla está hecha de restos de madera que se clavan para unirlos de forma aparentemente al azar, y se llama *Favela*, al igual que las barriadas de chabolas de Brasil, que están construidas de forma igualmente al azar. *Favela* es un auténtico éxito, pues se está vendiendo por \$1800, y están llegando pedidos de todo el mundo. Las exportaciones, que eran casi inexistentes el año pasado, este año suponen el 10 % de los ingresos de la empresa. Hoy, 10 000 de las 13 500 empresas de muebles son pequeñas empresas familiares, como *Schuster*. Por ello, se afirma que el mercado es un buen ejemplo de **competencia monopolística**.
- ❷ Debido a la **recesión** interna y a una divisa nacional débil, cada vez más fabricantes de muebles brasileños están dirigiéndose al mercado norteamericano. Muchos se están concentrando en el mobiliario barato copiado de modelos americanos, como hacen sus rivales chinos, mientras que unos pocos tienen como objetivo el mercado de mobiliario de diseño de alta calidad. Este último mercado tradicionalmente estaba dominado por Francia y España, pero estos países están perdiendo su posición en el mercado norteamericano por la robustez del euro.
- ❸ El año pasado los norteamericanos se gastaron un total de 262 millones de dólares en muebles brasileños, según datos del gobierno de EEUU. Aunque esto sólo supone una cuarta parte de lo que exportó Italia a los Estados Unidos y menos de un 5 % de los 5,7 billones de dólares que ha vendido China en EEUU, ha subido hasta un 35 % en el año. Esta aumento ha venido a sumarse al incremento del 34 % del año 2001. Las importaciones totales de muebles en los EEUU el año pasado fueron de 14,2 billones de dólares. Sin embargo, el aumento del interés por los muebles brasileños podría llevar a un incremento de precios en el futuro.
- ❹ A los fabricantes norteamericanos ya les han perjudicado las importaciones chinas, que son baratas. Desde el año 2000, más de 47 000 trabajadores del sector mobiliario han perdido sus puestos de trabajo según la Asociación Norteamericana de Fabricantes de Muebles. Dicha asociación pide barreras arancelarias sobre las importaciones de muebles.
- ❺ Los exportadores brasileños dicen que se darían por satisfechos con lograr alcanzar las cifras italianas. Afirman que ellos también usan madera de gran calidad, pero que pueden ofrecer precios que son hasta un 40 % más bajos. Aunque Brasil tradicionalmente ha exportado más madera que mesas, se encuentra en el número 10 de la lista de los mayores fabricantes de muebles del mundo. Sin embargo, de sus 3,5 billones de dólares en ventas del año pasado, sólo 500 millones procedían de las exportaciones.

[Fuente: adaptado de *The International Herald Tribune*, noviembre de 2003]

(Esta pregunta continúa en la página siguiente)

(Continuación de la pregunta 4)

- (a) Defina los siguientes términos, que aparecen marcados en negrita en el texto:
- (i) competencia monopolística (*párrafo 1*) *[2 puntos]*
 - (ii) recesión (*párrafo 2*). *[2 puntos]*
- (b) Utilizando un gráfico de oferta y demanda, explique por qué se puede esperar que el precio de los muebles brasileños aumente en el futuro (*párrafo 3*). *[4 puntos]*
- (c) Utilizando un gráfico apropiado, explique qué tipo de desempleo se está dando en el sector mobiliario de EEUU (*párrafo 4*). *[4 puntos]*
- (d) Sirviéndose de la información del texto y de su conocimiento de la economía, evalúe la postura de la Asociación Norteamericana de Fabricantes de Muebles, que pide la imposición de barreras arancelarias sobre las importaciones de muebles. *[8 puntos]*

5. *Lea detenidamente el siguiente fragmento y conteste todas las partes de la pregunta que figuran a continuación.*

El dólar cae a un mínimo histórico frente al euro

- ❶ El dólar cayó en picado en todos los sitios ayer, alcanzando un mínimo histórico frente al euro. El euro cotizó hasta los 1,2018 dólares, por encima de los 1,20 dólares por primera vez, mientras que el dólar caía hasta alcanzar nuevos mínimos frente a la libra esterlina y el dólar canadiense y llegaba a la cifra más baja de los seis últimos meses frente al franco suizo.
- ❷ La caída de ayer se suma a la venta masiva del dólar americano, que ha caído un 14 % frente al euro en lo que va de año. A los mercados financieros cada vez les preocupa más que los EEUU no sean capaces de atraer suficiente inversión para financiar su déficit por cuenta corriente, que se ha disparado hasta alcanzar nuevos récords.
- ❸ *Lehman Brothers* ha sido el último banco de Wall Street que se ha sumado a la visión pesimista, avisando a sus clientes de que el dólar “no es atractivo”, porque la reserva federal (la Fed) ha mantenido los tipos de interés muy bajos. “Insistiendo en que los tipos permanezcan en bajos históricos, lo único que ha hecho el banco central es contribuir a las dudas sobre la recuperación de los EEUU. Sin embargo, si la Fed comienza a insinuar que los tipos serán más altos de lo que pensamos, esto podría suponer un punto de cambio para la confianza del mercado en los EEUU; puede que no sea suficiente para cambiar la tendencia del **tipo de cambio**, pero desde luego sería suficiente para ralentizar el proceso”.
- ❹ Ayer la libra esterlina subió hasta su nueva cota más alta en cinco años, 1,7238 dólares, la mayor desde octubre de 1998. La libra ha subido un 1,6 por ciento frente al dólar desde que el Banco de Inglaterra (*Bank of England*) subiera los tipos de interés. La mayor parte del peso de la **depreciación** del dólar ha recaído sobre el euro, ya que las principales economías asiáticas han defendido sus divisas frente a la apreciación. El renminbi chino está vinculado al dólar y el gobierno chino ha rechazado las sugerencias de la Casa Blanca para que permitan que la divisa suba.
- ❺ Japón, que está luchando con una recesión que dura ya diez años, ha intervenido repetidamente para evitar que el yen subiera. Su miedo es que un yen de un valor elevado deprima aún más la economía japonesa; por ello, ha gastado la cifra récord de 17,8 trillones de yenes (95,9 billones de libras esterlinas) en lo que va de año para mantener bajo el yen.

[Fuente: adaptado de *The Independent*, Inglaterra, noviembre de 2003]

(Esta pregunta continúa en la página siguiente)

(Continuación de la pregunta 5)

- (a) Defina los siguientes términos, que aparecen marcados en negrita en el texto:
 - (i) tipo de cambio (*párrafo 3*) *[2 puntos]*
 - (ii) depreciación (*párrafo 4*). *[2 puntos]*
 - (b) Con la ayuda de un gráfico apropiado, explique **una** razón para la caída del valor del dólar americano. *[4 puntos]*
 - (c) Con la ayuda de un gráfico de DA/OA, explique por qué Japón teme un “yen de un valor elevado” (*párrafo 5*). *[4 puntos]*
 - (d) Evalúe **dos** métodos que podría usar el gobierno norteamericano para corregir su “déficit por cuenta corriente, que se ha disparado” (*párrafo 2*). *[8 puntos]*
-