

ECONOMÍA
NIVEL MEDIO
PRUEBA 1

Jueves 20 de mayo de 2004 (tarde)

1 hora

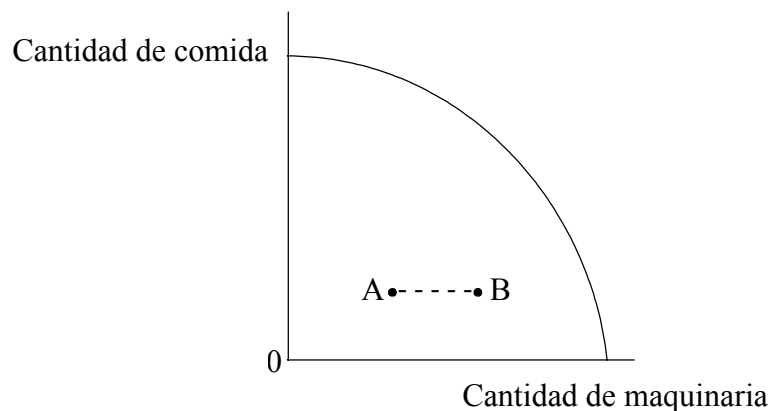
INSTRUCCIONES PARA LOS ALUMNOS

- No abra esta prueba hasta que se lo autoricen.
- Conteste todas las preguntas.
- Elija la respuesta que considere más apropiada para cada pregunta e indique la respuesta elegida en la hoja de respuestas provista.

1. ¿Cuál de las siguientes opciones representa una afirmación de la economía positiva?
 - A. Un incremento reciente de los tipos de interés ayudará a reducir la inflación.
 - B. El desempleo es un problema económico más grave que la inflación.
 - C. Debería aumentarse el gasto público en salud y educación.
 - D. La proporción de recaudación tributaria de los impuestos indirectos frente a los directos es demasiado alta.

2. Un bien económico es el que
 - A. tiene una oferta ilimitada.
 - B. cuando se consume implica un costo de oportunidad.
 - C. se grava con un tipo más alto por las externalidades negativas.
 - D. no se da en una economía planificada.

3. El siguiente gráfico muestra la frontera de posibilidades de la producción de un país determinado.

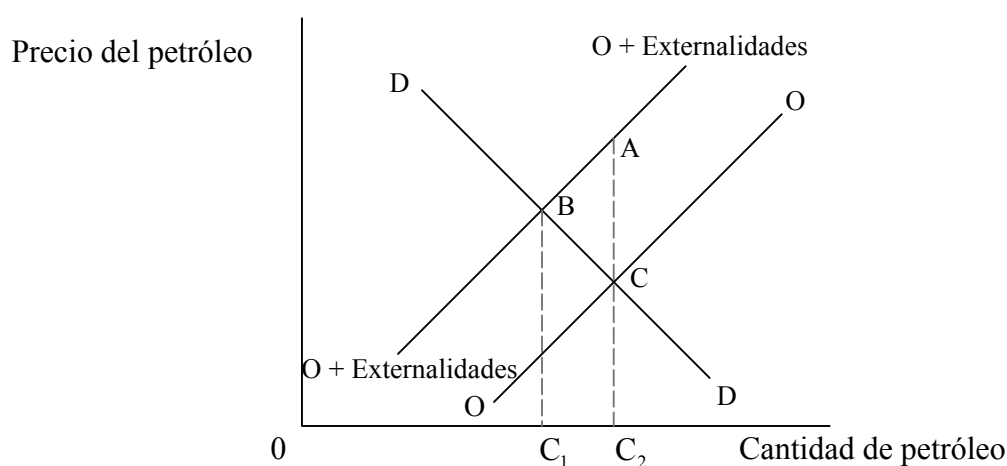


El movimiento del punto A al punto B representaría

- A. el incremento de los costos de oportunidad en lo referente a la comida.
- B. la disminución de los costos de oportunidad en lo referente a la maquinaria.
- C. unos costos de oportunidad constantes en lo referente a la comida.
- D. ningún costo de oportunidad.

4. ¿Cuál de las siguientes se considera una característica esencial del mecanismo de los precios?
- A. Los recursos se asignan en respuesta a los cambios en los precios.
 - B. Los compradores y los vendedores fijan los precios según sus preferencias.
 - C. Se logra un modelo de asignación de recursos socialmente óptimo.
 - D. Los bienes y servicios producidos siempre reflejan la soberanía del consumidor.

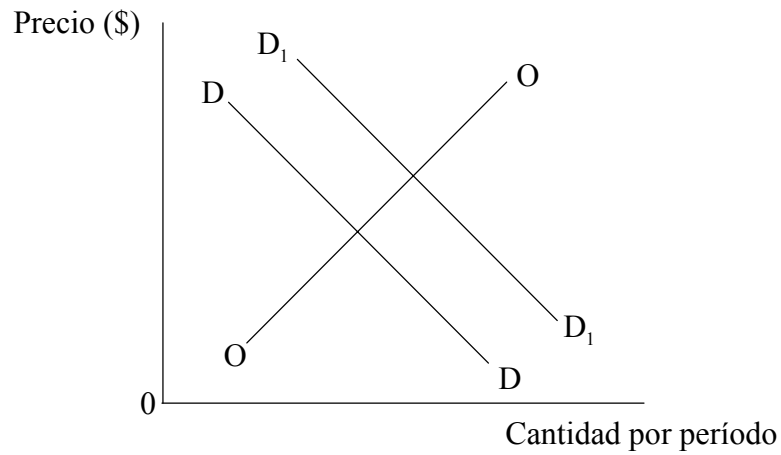
5. El siguiente gráfico representa el mercado del petróleo.



Una forma de interiorizar las externalidades asociadas con la producción de petróleo sería

- A. imponer al precio del petróleo un impuesto medioambiental equivalente a AC.
- B. ampliar los derechos de propiedad a los afectados por la contaminación provocada por el consumo de petróleo equivalente a BC.
- C. incrementar las cuotas de producción de petróleo de $0C_1$ a $0C_2$.
- D. emitir permisos de contaminación hasta un nivel igual a $0C_2$, pero no más allá.

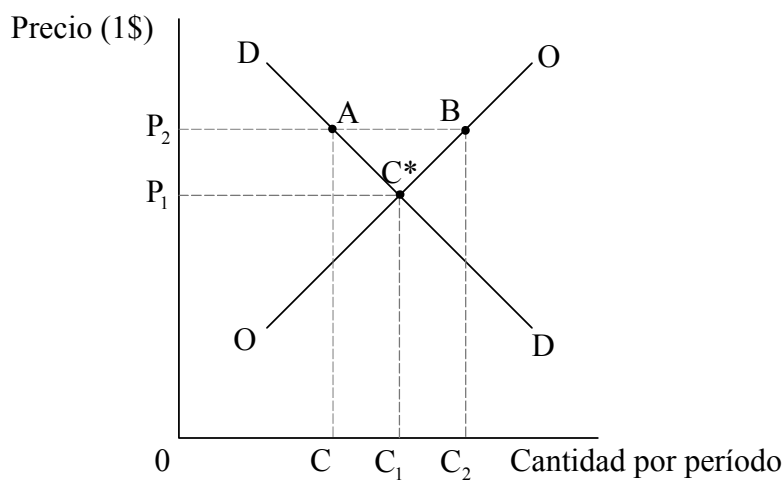
6. El siguiente gráfico representa el mercado del transporte ferroviario en el país X.



El desplazamiento de la curva de la demanda desde D hasta D1 podría explicarse por la decisión que toma el gobierno de

- A. ampliar su programa de construcción de carreteras.
- B. eliminar los peajes de las autopistas.
- C. reducir las subvenciones ferroviarias.
- D. gravar con un impuesto los aparcamientos en los lugares de trabajo.

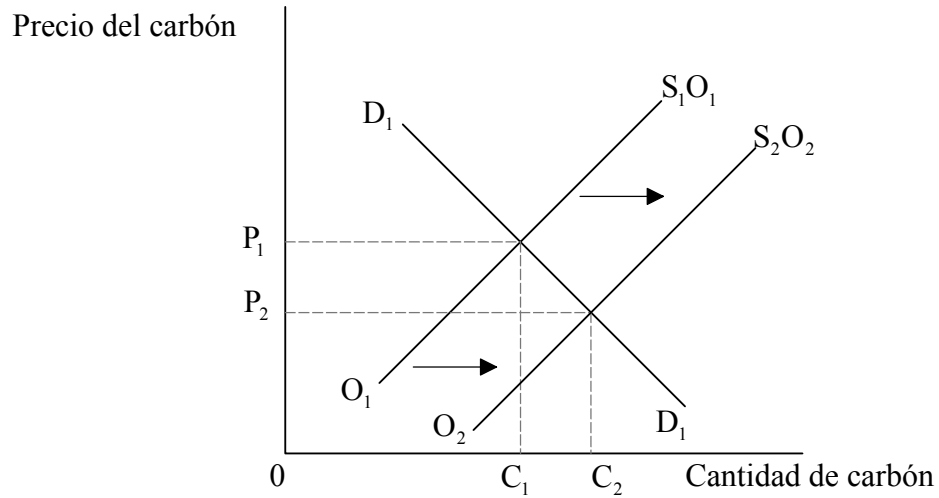
7. El siguiente gráfico representa el mercado de un producto agrícola en el que se fija un precio mínimo de $0P_2$.



Si el gobierno compra todas las existencias sobrantes al precio mínimo, ¿cuáles serán los ingresos totales de los granjeros?

- A. $0P_1C^*C_1$
- B. $0P_2BC_2$
- C. $CABC_2$
- D. $0P_2AC$

8. El siguiente gráfico muestra el mercado del carbón.



¿Cuál de las siguientes opciones hará que la oferta de carbón aumente de O_1 a O_2 ?

- A. Una disminución del precio del carbón.
 - B. Métodos más eficientes de explotación del carbón.
 - C. Una expansión de la demanda de carbón.
 - D. Un incremento del precio de los bienes sustitutivos del carbón.
9. Se produce un fallo de mercado cuando
- A. las empresas de un mercado determinado se ven obligadas a dejar de operar.
 - B. la demanda del mercado excede a la oferta del mercado.
 - C. un bien con una externalidad negativa tiene superproducción.
 - D. las empresas no logran obtener los beneficios adecuados.

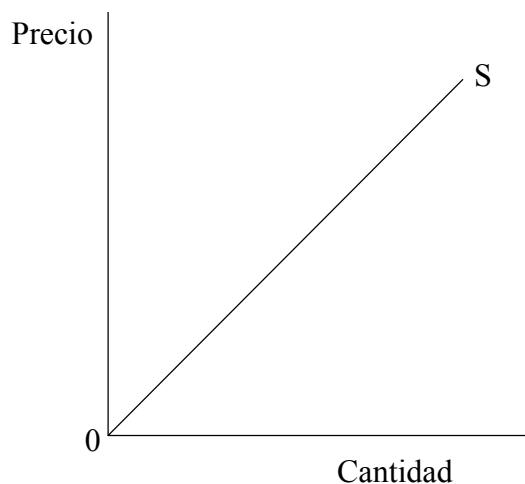
10. La siguiente tabla muestra los costos y beneficios de producción de diferentes cantidades de un producto químico.

Producción (toneladas semanales)	Costo marginal privado (000\$)	Costo marginal social (000\$)	Beneficio marginal social (000\$)
500	100	130	165
600	130	160	160
700	160	170	150
800	180	190	130

Para obtener el mejor resultado desde el punto de vista de la sociedad

- A. debería prohibirse por completo la producción del producto químico.
- B. la producción máxima semanal debería ser de 600 toneladas.
- C. la empresa debería estar produciendo en el nivel de producción que maximiza los beneficios.
- D. El beneficio marginal social debería maximizarse produciendo 500 toneladas a la semana.
11. La elasticidad renta de la demanda muestra el grado de respuesta de
- A. la renta respecto de un cambio en la demanda.
- B. la cantidad demandada respecto de un cambio en el precio.
- C. la cantidad demandada respecto de un cambio en la renta.
- D. el precio respecto de un cambio en la renta.
12. Un supermercado reduce el precio de los melones de 3 a 2 dólares la unidad. Como consecuencia, las ventas diarias aumentan de 200 a 250. La elasticidad precio de la demanda es de
- A. -0,25.
- B. -0,75.
- C. -1,00.
- D. -1,33.

13. El siguiente gráfico muestra una curva de la oferta.

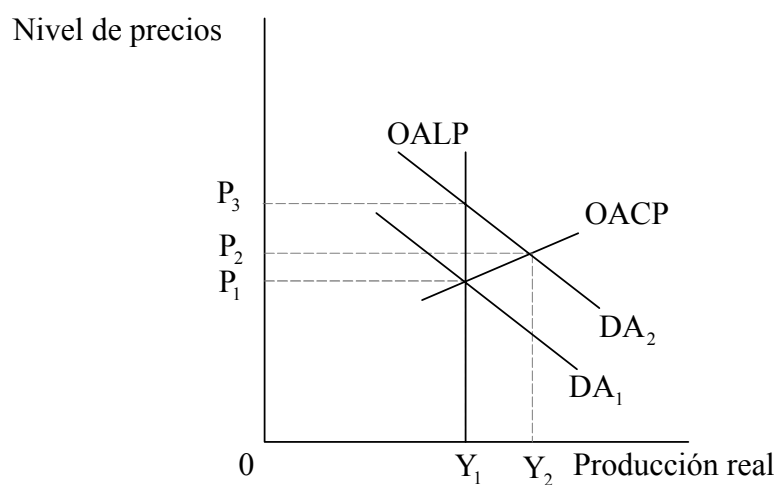


Según el gráfico, el aumentar el precio y la cantidad, la elasticidad precio de la oferta

- A. se vuelve elástica.
 - B. se vuelve inelástica.
 - C. sigue siendo unitaria.
 - D. aumenta y después disminuye.
14. La elasticidad cruzada de la demanda mide hasta qué punto
- A. el precio del bien X se ve afectado por un cambio en la oferta del bien Y.
 - B. el precio del bien X se ve afectado por un cambio en el precio del bien Y.
 - C. la demanda del bien X se ve afectada por un cambio en el precio del bien Y.
 - D. la demanda del bien X se ve afectada por un cambio en el precio del bien X.

15. Si la oferta de un producto está dominada por un número reducido de grandes empresas, se puede afirmar que la estructura del mercado es
- A. oligopolista.
 - B. competencia monopolista.
 - C. perfectamente competitiva.
 - D. monopolista.
16. Una economía ha logrado eficiencia asignativa si
- A. se producen los bienes a su precio más bajo.
 - B. deja de responder a los cambios técnicos.
 - C. no es capaz de producir más mediante la transferencia de recursos entre sectores.
 - D. se han eliminado todas las externalidades negativas.
17. ¿Cuáles son las tres fugas del flujo circular de la renta?
- A. La inversión, los impuestos y los gastos en importaciones.
 - B. El ahorro, los impuestos y los gastos en importaciones.
 - C. El ahorro, el gasto público y los gastos en importaciones.
 - D. El ahorro, los impuestos y los gastos en exportaciones.
18. ¿Cuáles de los siguientes cambios son necesarios para convertir la Renta Nacional a Precios de Mercado en Renta Nacional a Coste de los Factores?
- A. Restar los impuestos indirectos y añadir las subvenciones.
 - B. Restar tanto los impuestos indirectos como las subvenciones.
 - C. Sumar tanto los impuestos indirectos como las subvenciones.
 - D. Sumar los impuestos indirectos y restar las subvenciones.

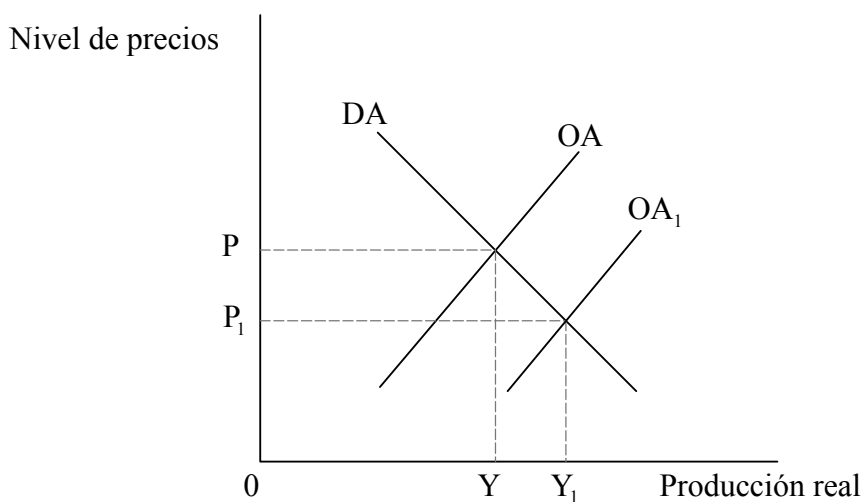
19. El siguiente gráfico ilustra las curvas de demanda agregada (DA), la curva de oferta agregada a largo plazo (OALP) y la curva de oferta agregada a corto plazo (OACP) de una economía.



El desplazamiento de la curva de DA de DA_1 a DA_2

- A. incrementará tanto la producción como la inflación a corto plazo.
- B. no cambiará la inflación ni la producción a corto plazo.
- C. incrementará la producción pero no la inflación a largo plazo.
- D. no cambiará la inflación ni la producción a largo plazo.

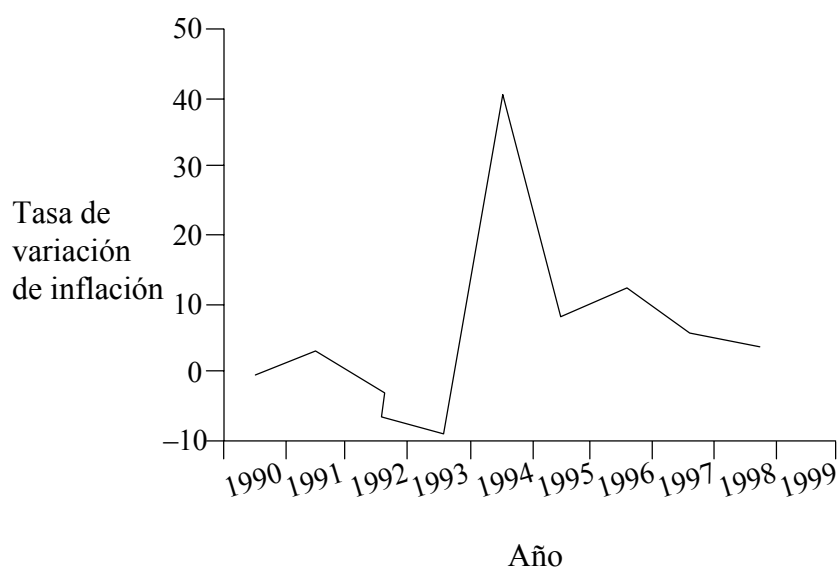
20. El siguiente gráfico muestra las curvas de la demanda agregada (DA) y la oferta agregada (OA) de una economía.



¿Cuál de las siguientes opciones probablemente explicará mejor el desplazamiento de la curva de la oferta agregada de OA a OA₁? Un incremento

- A. del consumo privado.
 - B. del stock de capital.
 - C. de los costos salariales.
 - D. de la oferta monetaria.
21. Un incremento de los tipos de interés muy probablemente tendrá **uno** de los siguientes efectos económicos?
- A. Una disminución de los beneficios bancarios.
 - B. Una reducción de los nuevos créditos hipotecarios.
 - C. Una disminución del nivel de desempleo.
 - D. Un incremento de los gastos en inversiones.

22. El siguiente gráfico muestra los niveles de inflación del Chad (África Central) desde 1990 hasta 1998.



[Fuente: Informe sobre el Desarrollo Africano de 1999]

El gráfico muestra que los precios cayeron durante el/los período/s

- A. 1992 – 1993.
 - B. 1994 – 1995.
 - C. 1996 – 1998.
 - D. 1992 – 1993 y 1994 – 1998.
23. Una política fiscal expansionista puede incluir **una** de las siguientes opciones
- A. Unos niveles tributarios más bajos y un aumento del gasto público.
 - B. Unos tipos de interés más bajos.
 - C. Un incremento de la oferta monetaria.
 - D. Un gasto público menor y unos tipos impositivos más altos.

24. La siguiente tabla muestra los cambios en la inflación y la oferta monetaria de África desde 1995 hasta 1998.

África: Indicadores macroeconómicos				
Indicadores	1995	1996	1997	1998
Inflación (%)	33,0	25,1	13,7	12,0
Crecimiento de la oferta monetaria (%)	22,6	18,4	15,8	12,4

[Fuente: Sección de Estadísticas del Banco de Desarrollo Africano y FMI, citado en el Informe sobre el Desarrollo Africano de 1999]

Según estos datos, ¿cuál de las siguientes afirmaciones es probablemente más correcta para las economías africanas?

- A. Hay una recesión.
 - B. Los presupuestos del gobierno se están aproximando al equilibrio.
 - C. El nivel de vida debe de estar cayendo.
 - D. Se está endureciendo la política monetaria.
25. Esta pregunta hace referencia a la tabla que aparece a continuación.

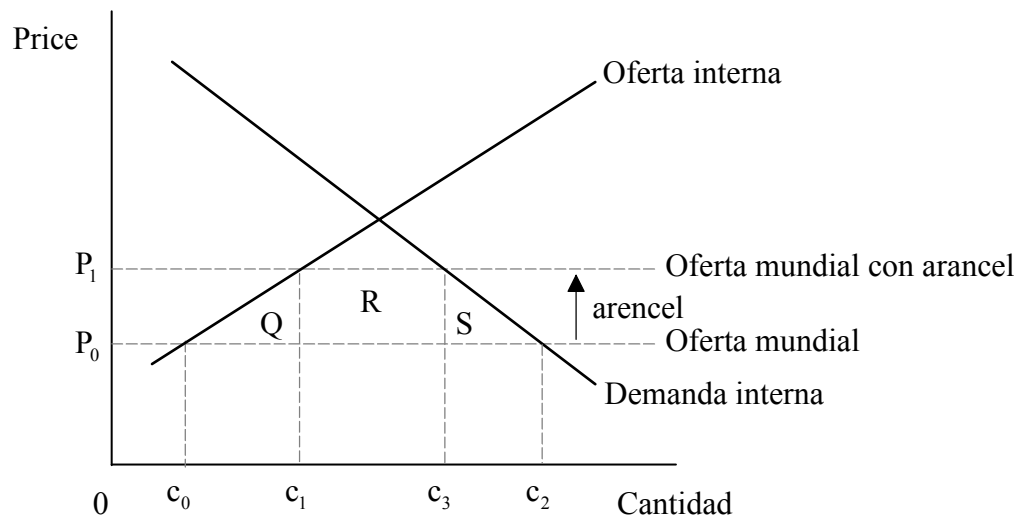
País	Producción por unidad de insumo	
	Ropa	Alimentos
Fenna	300	600
Kensari	100	400

De esta tabla se puede deducir que

- A. Kensari tiene una ventaja comparativa en ropa.
- B. Fenna tiene una ventaja comparativa en alimentos.
- C. Kensari tiene una ventaja absoluta en ambos bienes.
- D. Fenna tiene una ventaja absoluta en ambos bienes y una ventaja comparativa en ropa.

26. ¿Cuál de las siguientes opciones **no** aumentaría las barreras al comercio mundial?
- A. La imposición de controles sobre las medicinas producidas en el extranjero por parte del gobierno indio.
 - B. La abolición de los sistemas de apoyo a la agricultura que se les proporciona a los granjeros de la Unión Europea.
 - C. Que el gobierno chino exija que los documentos de aduanas se rellenen y presenten en chino.
 - D. Un acuerdo voluntario entre el gobierno de EEUU y productores extranjeros por el que se limite el volumen de importaciones textiles a EEUU.

27. Esta pregunta se basa en el siguiente gráfico de oferta y demanda.



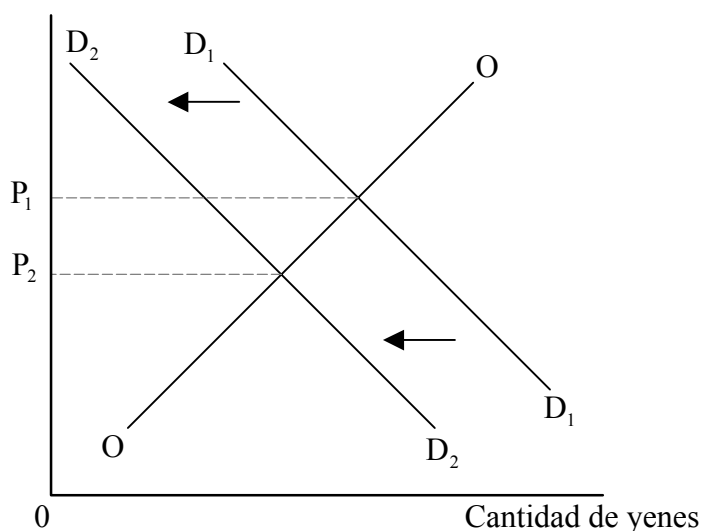
¿Cuál de las siguientes áreas muestra correctamente la recaudación tributaria que recibiría el gobierno si se impone un arancel?

- A. Área Q.
- B. Área R.
- C. Área S.
- D. Áreas Q, R y S.

28. A un grupo de países que han acordado la libre circulación de mercancías, servicios y factores de producción entre los países miembros y que tienen un arancel externo común se le denomina
- A. zona de libre comercio.
 - B. unión aduanera.
 - C. mercado común.
 - D. Organización Mundial del Comercio.
29. ¿Cuál de las siguientes opciones tendrá como resultado un incremento de las transacciones de créditos en la balanza de pagos por cuenta de capital de un país?
- A. Un incremento del tipo de interés abonado por créditos externos.
 - B. La concesión de créditos mayores a países según los términos del FMI.
 - C. El aumento de los pagos recibidos por servicios prestados a usuarios extranjeros.
 - D. El aumento de préstamos de acreedores extranjeros.

30. El siguiente gráfico ilustra una depreciación del yen japonés con respecto al dólar de EEUU (US\$) en un mercado de divisas de libre flotación.

Precio del yen en función del US\$



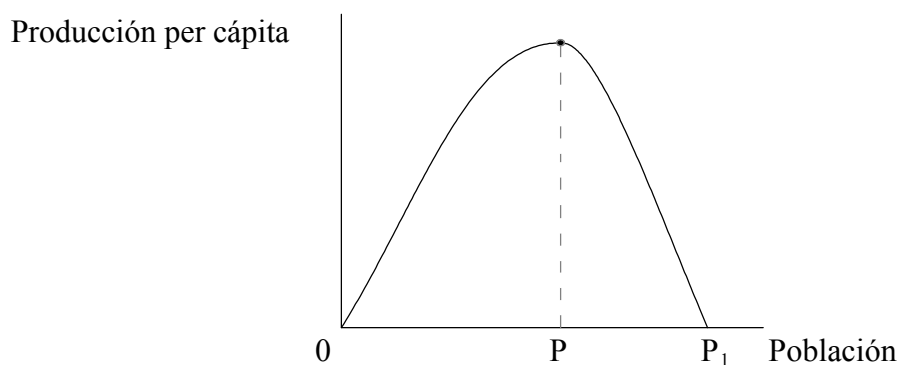
¿Cuál de las siguientes opciones es más probable que haya causado la depreciación del yen japonés que se ilustra?

- A. Están viajando al extranjero más turistas japoneses.
 - B. Una disminución de la inversión japonesa en el extranjero.
 - C. La tasa de inflación japonesa es persistentemente más baja que la que tienen los países con los que mantiene relaciones comerciales.
 - D. Ha caído el nivel de las exportaciones de Japón.
31. La teoría de la paridad del poder adquisitivo sugiere que, con el tiempo, los tipos de cambio se moverán en el mismo sentido que **una** de las siguientes opciones
- A. Las balanzas comerciales.
 - B. Los tipos de interés.
 - C. Las tasas de inflación.
 - D. Las tasas de desempleo.

32. Cuando un país tiene unos términos de intercambio favorables, experimentará
- A. un incremento de las ganancias por las exportaciones en comparación con los gastos por las importaciones.
 - B. una tasa de inflación menor que la de los países con los que comercia.
 - C. un incremento del poder adquisitivo de sus exportaciones.
 - D. una depreciación de su tipo de cambio.
33. Es más probable que el crecimiento económico conduzca a desarrollo económico si está acompañado por
- A. mayores niveles de consumo de bienes y servicios de lujo.
 - B. mayor gasto público en bienes de mérito.
 - C. mayor dependencia del sistema de precios y del “efecto de goteo” de la renta.
 - D. más incentivos tributarios a las sociedades multinacionales.
34. ¿Cómo se comparan los stocks de capital, el consumo de energía per cápita y el grado de urbanización de los países menos desarrollados (PMenD) con de los países más desarrollados?

En los PMenD...		
Los stocks de capital son:	El consumo de energía per cápita es:	El grado de urbanización es
A. más altos	más bajo	más alto
B. más bajos	más bajo	más bajo
C. más bajos	más alto	más alto
D. más altos	más bajo	más bajo

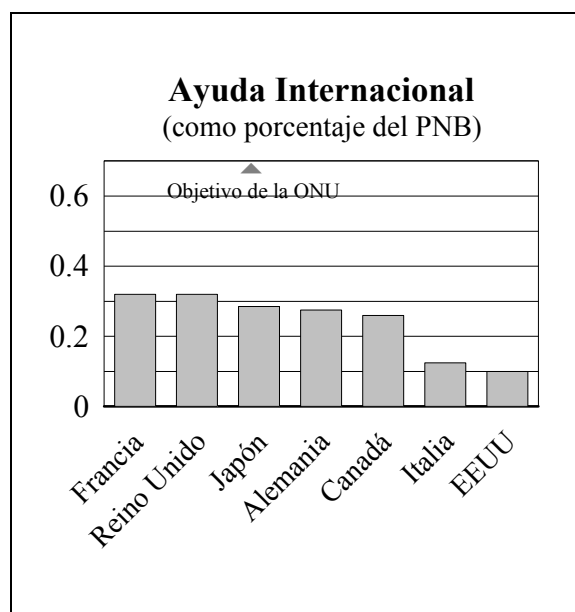
35. El siguiente gráfico relaciona la producción per cápita con el tamaño de la población, en función de una disponibilidad de recursos determinada.



Según este gráfico, se da escasez de población

- A. sólo en 0.
 - B. entre los puntos 0 y P.
 - C. en 0P.
 - D. entre los puntos P y P₁.
36. Históricamente, los Países Menos Desarrollados (PMenD) se han especializado en la producción de artículos básicos de consumo. Este modelo de especialización ha resultado poco ventajoso porque estos artículos tienden a tener
- A. una elasticidad precio de la demanda positiva.
 - B. una elasticidad precio de la oferta alta a corto plazo.
 - C. una elasticidad cruzada de la demanda negativa.
 - D. una elasticidad renta de la demanda baja.
37. El gobierno de un País Menos Desarrollado (PMenD) concede becas monetarias a sus profesores en prácticas. Esto sería un ejemplo de
- A. capital social.
 - B. tecnología adecuada.
 - C. pagos por productividad.
 - D. capital humano.

38. El siguiente cuadro muestra la ayuda internacional otorgada por países donantes en 2001.

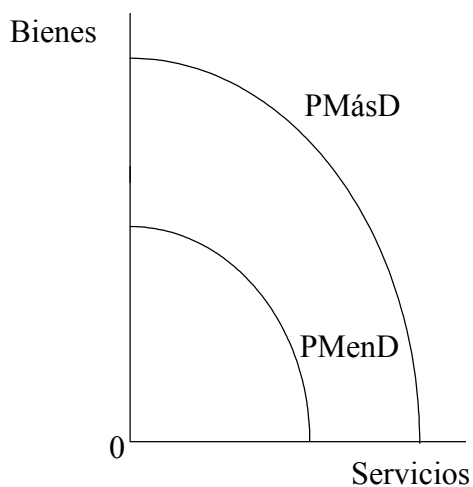


[Fuente: OCDE]

Del cuadro se puede deducir que Francia y el Reino Unido

- A. donaron en ayuda aproximadamente el 0,3% del total de gastos de su gobierno.
 - B. fueron los que más dinero donaron en ayuda internacional.
 - C. fueron los únicos países que probablemente cumplieran el objetivo de la ONU.
 - D. donaron en ayuda un poco más del 0,3% del valor de su producción total.
39. El grado de implicación del Fondo Monetario Internacional (FMI) con los países menos desarrollados (PMenD) fundamentalmente se ha manifestado en forma de
- A. financiación de proyectos de infraestructura.
 - B. puesta en práctica de programas de ajuste estructural.
 - C. estímulo de bloques comerciales regionales.
 - D. coordinación de la ayuda internacional a los PMenD.

40. El siguiente gráfico representa las fronteras de posibilidades de producción de un país menos desarrollado (PMenD) y de un país más desarrollado (PMásD).



La frontera de posibilidades de la producción del PMenD está a la izquierda de la frontera de posibilidades de la producción del PMásD porque es probable que el PMenD tenga

- A. un Índice de Desarrollo Humano más alto.
- B. más recursos, especialmente de capital.
- C. mayor productividad de los recursos existentes.
- D. menor potencial productivo.