



ECONOMÍA
NIVEL MEDIO
PRUEBA 1

Lunes 13 de noviembre del 2000 (tarde)

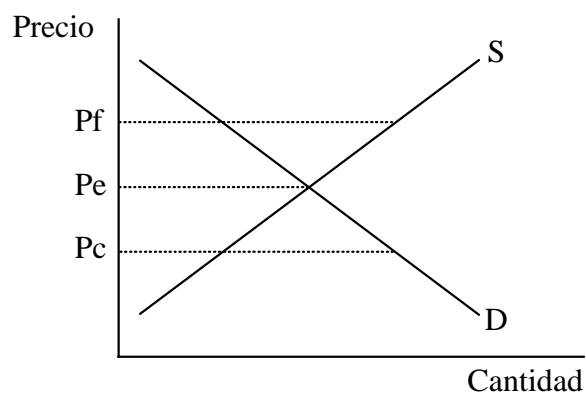
1 hora

INSTRUCCIONES PARA LOS ALUMNOS

- No abra esta prueba hasta que se lo autoricen.
- Conteste todas las preguntas.
- Seleccione la respuesta que considere más apropiada para cada pregunta e indique su elección en la hoja de respuestas provista.

1. Cuando los recursos se asignan con arreglo al mecanismo de los precios
 - A. no hay certeza de que se vayan a producir todos los bienes deseados.
 - B. se maximizará el superávit del consumidor.
 - C. es poco probable que surja el fallo del mercado.
 - D. es probable que haya una distribución equitativa de la renta.

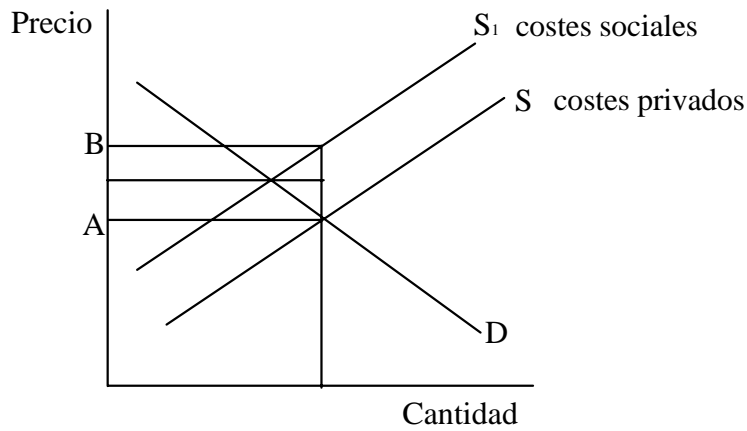
2. El diagrama siguiente muestra el mercado de un bien en particular.



P_c es un precio tope, lo que quiere decir que

- A. todos los consumidores están en mejor posición.
- B. no tiene impacto en el mercado.
- C. conduce a excedentes.
- D. conduce a escasez.

3. El diagrama de abajo muestra los costes privados y sociales que supone la producción de cierta mercadería.

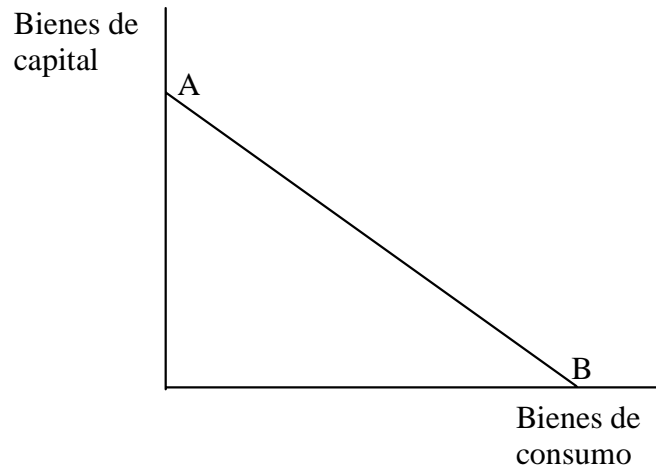


La distancia vertical AB muestra

- A. el importe del subsidio que los productores de un bien de mérito deberían recibir del gobierno.
 - B. el importe de impuestos que el gobierno debería gravar a los productores de un bien de mérito.
 - C. el importe de impuestos necesarios para internalizar una externalidad.
 - D. el beneficio de una externalidad positiva para la sociedad.
4. Si se dejara que el mercado, en vez del gobierno, suministre los bienes de mérito
- A. sería imposible excluir a los consumidores parásitos.
 - B. la economía experimentaría el desempleo.
 - C. a precios de mercado serían subconsumidos.
 - D. los podrían ofrecer las empresas extranjeras.

5. Un país en transición de un sistema de planificación central a uno de mercado es probable que experimente
- A. un nivel de precios más bajo.
 - B. un incremento del desempleo a corto plazo.
 - C. un incremento general del nivel de vida para la mayoría de los ciudadanos.
 - D. una mayor restricción de las importaciones.
6. ¿Cuál de los siguientes es una afirmación positiva?
- A. El nivel de desempleo es demasiado alto.
 - B. La distribución de la renta y la riqueza no es equitativa.
 - C. Las empresas multinacionales ejercen demasiado poder e influencia en la mayoría de los países en vías de desarrollo.
 - D. Con los controles a las importaciones se podría mejorar la balanza de pagos.
7. En economía, ¿cuál de los siguientes se considera un bien libre?
- I. Un bien que no tiene coste de oportunidad
 - II. Un bien que las agencias públicas ofrecen gratis
 - III. Un bien que produce el estado
- A. I sólo
 - B. I y II sólo
 - C. II y III sólo
 - D. I, II y III

8.



La frontera de posibilidades de la producción que arriba se muestra indica que

- A. la economía siempre logrará la eficiencia técnica.
 - B. hay un coste de oportunidad constante en la asignación de recursos entre los bienes de consumo y los bienes de capital.
 - C. los consumidores son indiferentes entre cualquier combinación alternativa de los bienes de consumo y de capital que esta sociedad es capaz de producir.
 - D. la producción de bienes de consumo será mayor que la producción de bienes de capital.
9. ¿Cuál de los siguientes apartados será la causa de que la curva de la demanda de las barras de chocolate se desplace a la izquierda?
- A. El descubrimiento de los médicos de que el chocolate prolonga la vida
 - B. Una subida de los sueldos de los trabajadores de las barras de chocolate
 - C. Una bajada del precio de las barras de chocolate
 - D. Los consumidores esperan que bajen los precios de las barras de chocolate

10. La tabla de abajo muestra el cambio en la venta de dos periódicos tras la baja del precio de uno de ellos, *The Daily News*, de 50 céntimos a 40 céntimos.

VENTA DE PERIÓDICOS

Nombre del Periódico	Ventas (Ejemplares por semana)	
<i>The Daily News</i>	Semana 1	10 000
	Semana 2	11 000
<i>The Daily Gossip</i>	Semana 1	8000
	Semana 2	4000

Con esta información se puede deducir que la elasticidad cruzada de la demanda del *Daily Gossip*, en relación con la reducción del precio del *Daily News* es

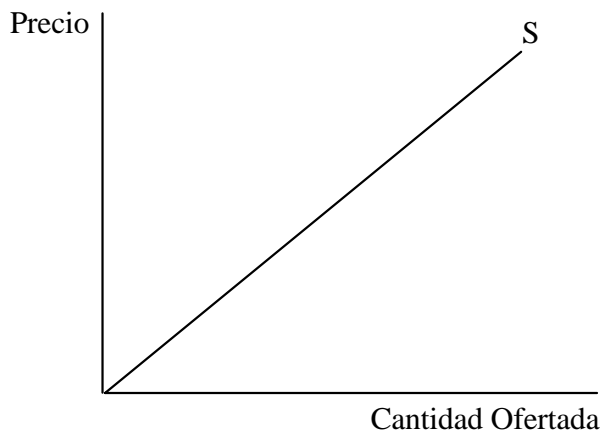
- A. 1,0.
 - B. 1,5.
 - C. 2,0.
 - D. 2,5.
11. La tabla de abajo representa una tabla de la demanda del producto Y.

Precio (\$)	Cantidad Demandada
8	0
7	1
6	2
5	3
4	4
3	5

La demanda es inelástica en la escala de precios de

- A. 3 a 4 dólares.
- B. 4 a 5 dólares.
- C. 5 a 6 dólares.
- D. 6 a 7 dólares.

12. El diagrama de abajo muestra una curva de la oferta con pendiente positiva.



Esta curva tiene una elasticidad precio de la oferta que es

- A. positiva y mayor que 1.
 - B. positiva e igual a 1.
 - C. negativa e igual a 1.
 - D. positiva y menor que 1.
13. Es probable que la demanda de productos farmacéuticos para el tratamiento del SIDA sea inelástica con relación al precio porque
- A. son muy caros.
 - B. la incidencia del SIDA va en aumento en todo el mundo.
 - C. hay muy pocos tratamientos alternativos eficaces para esta enfermedad.
 - D. una reducción de su precio causará un aumento del gasto total en el tratamiento del SIDA.

14. La tabla de abajo se refiere a la cuota de mercado de empresas que en 1997 competían en la industria de los cigarrillos en EE.UU.

Empresa	Porcentaje Cuota de Mercado	Marcas Clásicas
Philip Morris	49%	Marlboro
RJR Nabisco	24%	Winston
BAT Industries	16%	State Express
Otras	11%	—

[Fuente: *Financial Times*]

Dada la información anterior se puede llegar a la conclusión de que es probable que el mercado de los cigarrillos de los EE.UU. se caracterice por

- I. el beneficio normal.
 - II. las barreras de entrada.
 - III. la diferenciación del producto.
- A. I sólo
 - B. I y II sólo
 - C. II y III sólo
 - D. I, II y III
15. La eficiencia productiva existiría si
- A. hubiese pleno empleo de todos los recursos.
 - B. la economía estuviera produciendo los bienes y servicios más valorados por la sociedad en su conjunto.
 - C. la economía estuviera funcionando dentro de la frontera de las posibilidades de la producción.
 - D. las empresas estuvieran produciendo al coste medio más bajo posible.

16. Cuando la demanda es inelástica con relación al precio, la variación porcentual
- A. de la cantidad demandada es mayor que la variación porcentual del precio.
 - B. del precio es mayor que la variación porcentual de la cantidad demandada.
 - C. del precio es menor que la variación porcentual de la cantidad de la demandada.
 - D. de la cantidad demandada es la misma que la variación porcentual del precio.

17. Para una economía se da la siguiente información:

Nivel inicial de la renta nacional	= 20 mil millones de dólares
El incremento autónomo de las exportaciones	= 1 mil millón de dólares
El cambio eventual de la renta nacional	= 5 mil millones de dólares
El nuevo nivel de la renta nacional	= 25 mil millones de dólares

Ésta información ilustra con toda claridad

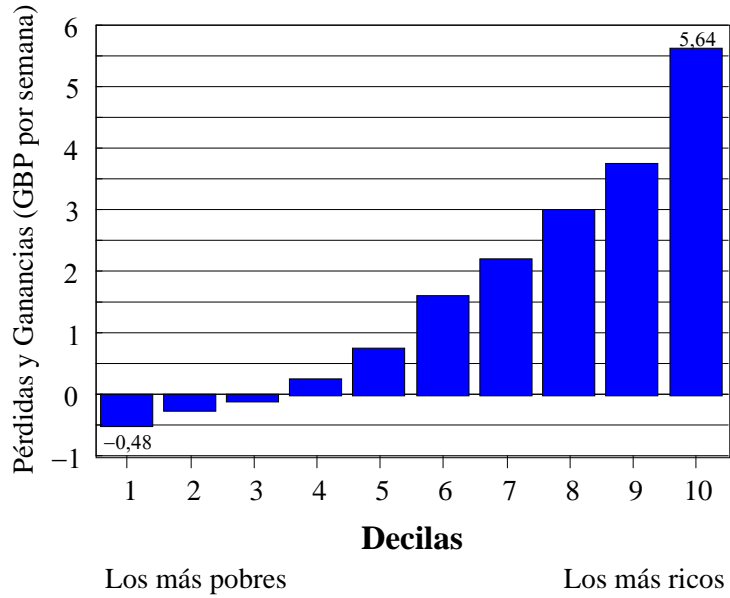
- A. un incremento de la renta nacional neta.
 - B. una subida del nivel de vida.
 - C. el efecto multiplicador.
 - D. un incremento de la renta nacional real.
18. La tabla siguiente muestra un índice de precios al consumo para un país en particular a lo largo de un periodo de tiempo.

Año	Índice de Precios al Consumo
1995	140
1996	144
1997	150
1998	156

¿Cuál es la tasa de inflación para 1998?

- A. 6%
- B. 4%
- C. 16%
- D. 56%

19. El diagrama de abajo indica el impacto distribuidor del presupuesto del Reino Unido en 1996.

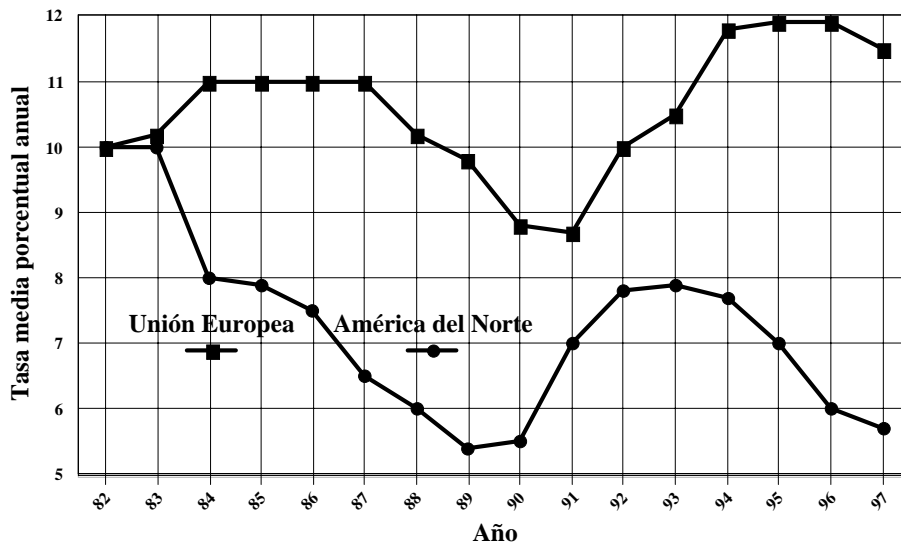


[Fuente: *Economics Update 1997.*]

Del diagrama anterior se puede deducir que, como resultado de este presupuesto, cuanto más rico sea el grupo de la escala de la renta mayor será la ganancia en

- I. términos de efectivo.
 - II. términos porcentuales.
 - III. términos reales.
- A. I sólo
 - B. I y II sólo
 - C. II y III sólo
 - D. I, II y III

20. El diagrama de abajo muestra las tasas comparativas de desempleo para la Unión Europea y para América del Norte de 1982 a 1997.

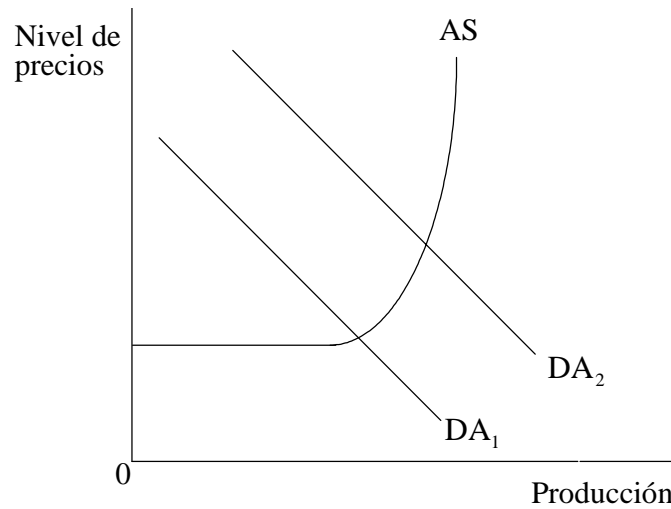


[Fuente: *Economics Update*, 1998]

Con el diagrama se puede llegar a la conclusión de que

- A. el desempleo en ambas regiones era principalmente estructural.
 - B. había una correlación positiva entre el desempleo en las dos regiones de 1987 a 1990.
 - C. la caída del desempleo en América del Norte hizo que cayera el desempleo en la Unión Europea.
 - D. los mercados laborales de la Unión Europea eran más flexibles que los de América del Norte.
21. ¿Cuál de los siguientes representa una retirada del flujo circular de la renta?
- A. La financiación privada de un centro nacional de las artes para conmemorar la celebración del milenio
 - B. La extensión por parte del gobierno de la actual red de carreteras
 - C. Un estudiante extranjero que paga cuotas para estudiar en un colegio local
 - D. La compra por parte de un gran almacén nacional de ropas de diseño hechas en el extranjero

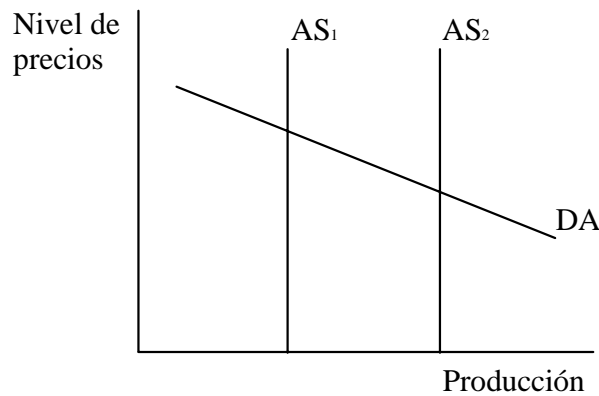
22. El diagrama de abajo muestra las curvas DA y AS de una economía.



El desplazamiento de DA₁ a DA₂ podría explicarse por

- A. un incremento de los tipos de interés.
- B. un relajamiento de las políticas fiscales.
- C. una reducción de la confianza del consumidor.
- D. una caída del dinero de los sueldos.

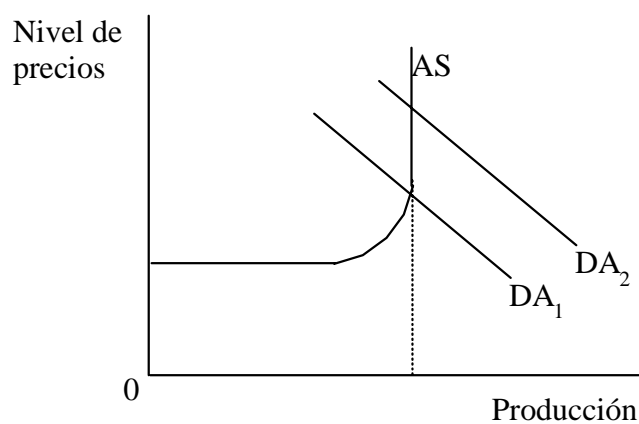
23. El diagrama siguiente muestra un desplazamiento de la curva de la oferta agregada de AS₁ a AS₂.



Diga cuál de los siguientes podría haber causado este traslado.

- A. Una mayor flexibilidad en el mercado laboral
- B. Una reducción del nivel de precios
- C. Una reducción del gasto público en la formación profesional
- D. Un incremento de la oferta monetaria

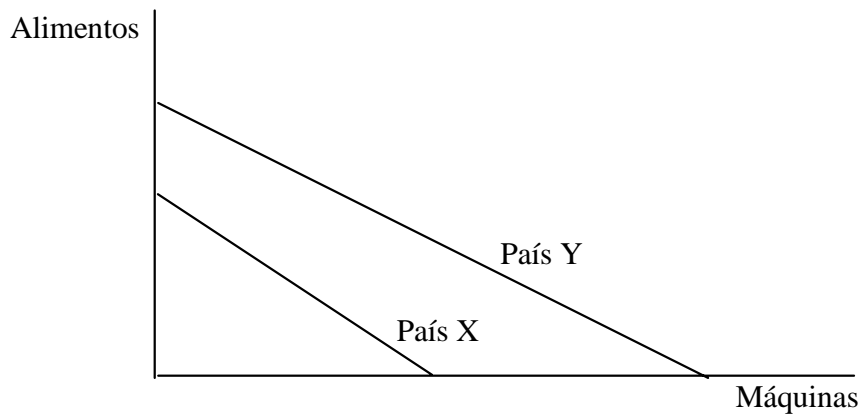
24. El diagrama de abajo muestra las curvas de la oferta y la demanda agregadas de una economía.



Con arreglo a este diagrama, un incremento de la demanda agregada de DA₁ a DA₂

- I. no incrementará la producción real.
 - II. incrementará los precios.
 - III. no puede ocurrir porque en DA₁ la economía se halla en pleno empleo.
- A. I sólo
 - B. I y II sólo
 - C. II y III sólo
 - D. I, II y III.

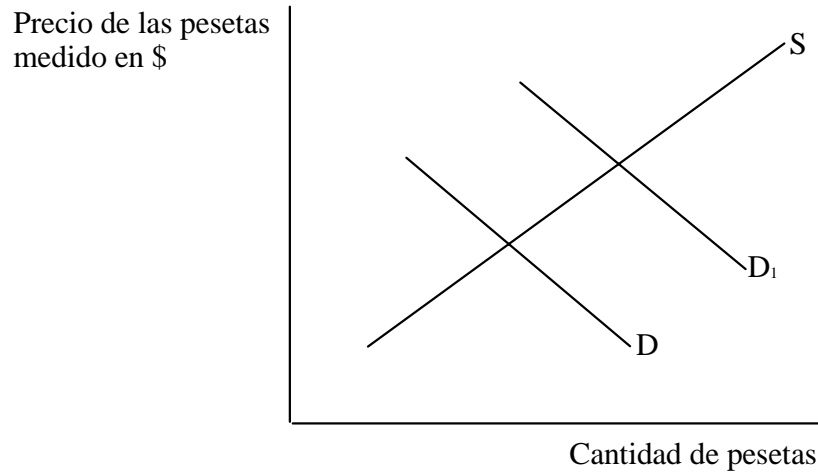
25. El diagrama siguiente muestra las fronteras de posibilidades de la producción de 2 países los cuales producen alimentos y maquinaria.



¿Cuál de las afirmaciones siguientes es correcta?

- A. El país Y tiene una ventaja comparativa en la producción de ambos productos.
 - B. El país X es relativamente menos eficiente en la producción de ambos productos.
 - C. Sólo el país Y se beneficiará de la especialización y el comercio.
 - D. El país Y se debería especializar en la producción de máquinas y el país X en la producción de alimentos.
26. Diga cuál(es) de los siguientes puede(n) considerarse como ejemplo(s) de barrera no arancelaria para el comercio.
- I. La imposición de niveles específicos de calidad estándar sobre todos los bienes importados
 - II. El boicoteo de bienes producidos por el trabajo de niños
 - III. Un rechazo de importación de bienes cuyo método de producción causa graves daños al medio ambiente
- A. I sólo
 - B. I y II sólo
 - C. II y III sólo
 - D. I, II y III

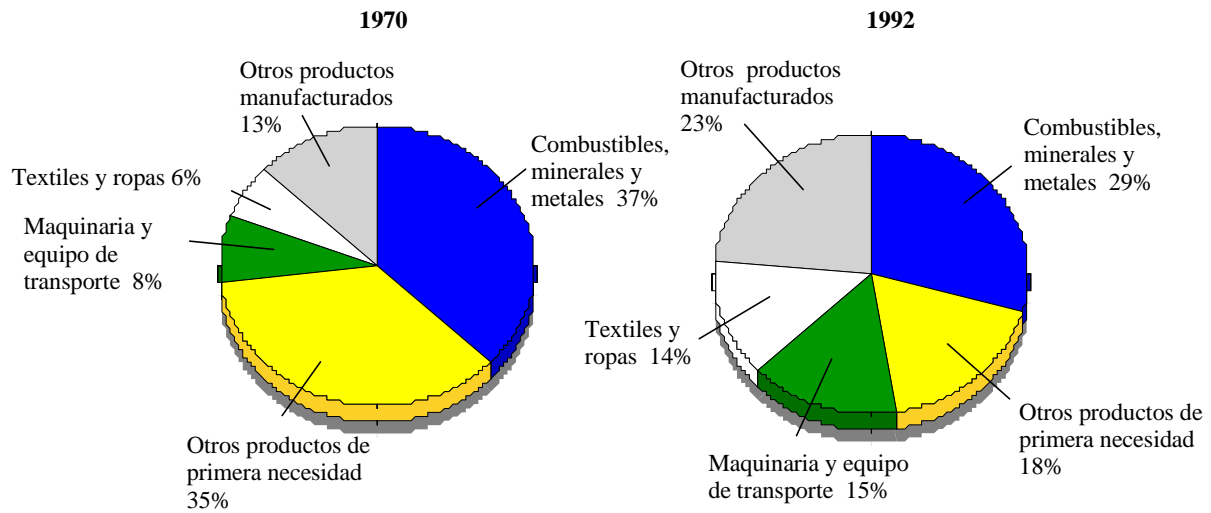
27. El diagrama de abajo muestra la demanda y la oferta de pesetas en el mercado de divisas.



Diga cuál de los siguientes es más probable que cause el desplazamiento de D a D₁.

- A. Un aumento de la demanda en España de bienes hechos en los EE.UU.
- B. Una subida de los tipos de interés en los EE.UU. en relación con los de España
- C. Un aumento de la demanda por parte de los residentes de los EE.UU. de los bienes españoles
- D. Un convencimiento por parte de los especuladores extranjeros de que caerá el valor de la peseta

28. Los dos gráficos de sectores de abajo muestran la evolución de la estructura de las exportaciones de bienes de Países Menos Desarrollados (PMenD) entre 1970 y 1992.



Con los gráficos de sectores se puede llegar a la conclusión de que a lo largo del periodo en cuestión, los PMenD han reducido

- A. su comercio en servicios en su conjunto.
 - B. su cuota de bienes manufacturados en el comercio mundial.
 - C. los déficits de sus balanzas de pagos.
 - D. su dependencia en las exportaciones de productos de primera necesidad.
29. El objetivo principal de la Organización Mundial de Comercio es
- A. reducir el poder de las multinacionales.
 - B. reducir las barreras comerciales.
 - C. promover el crecimiento orientado a la exportación en los Países Menos Desarrollados.
 - D. reducir la carga de la deuda de los Países Menos Desarrollados.

- 30.** Un deterioro de los términos de intercambio de los países productores de productos de primera necesidad supone que
- A. los bienes manufacturados importados llegan a ser relativamente más caros.
 - B. las exportaciones están en declive debido a un cambio en la división internacional del trabajo.
 - C. se incrementa el volumen de las importaciones.
 - D. por lo general se deterioran las balanzas comerciales.
- 31.** Un país con un déficit persistente en la cuenta corriente de su balanza de pagos cree que esto se debe a un exceso de demanda nacional. Las políticas adecuadas para reducir el déficit incluyen
- I. la subida de los tipos de interés.
 - II. la subida de los impuestos.
 - III. el incremento del gasto público.
- A. I sólo
 - B. I y II sólo
 - C. II y III sólo
 - D. I, II y III

32. La divisa del País X se deprecia en los mercados de divisas.

Una Caída del Tipo de Cambio del País X

Combinación de Resultados	Precios de Exportación	Precios de Importación	Inflación Nacional
W	Bajan	Bajan	Bajan
X	Bajan	Suben	Suben
Y	Suben	Bajan	Bajan
Z	Suben	Suben	Suben

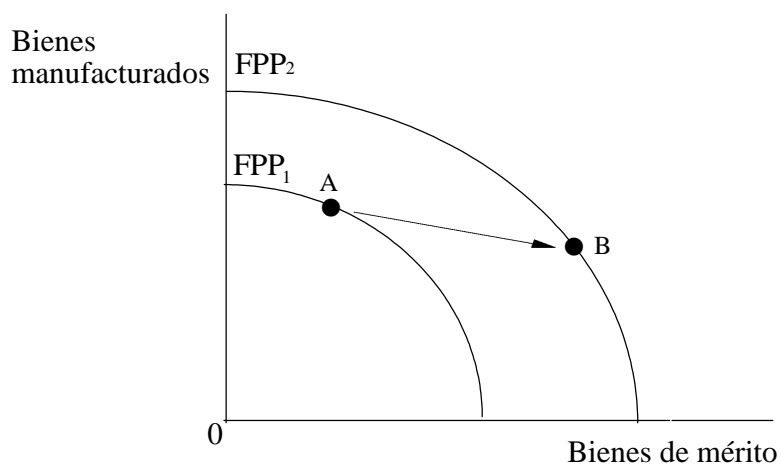
Diga cuál de los anteriores representa la combinación de resultados más probables.

- A. W
- B. X
- C. Y
- D. Z

33. En los Países Menos Desarrollados con mano de obra abundante y barata y una relativa escasez de capital, la tecnología adecuada requerirá métodos de mano de obra intensiva porque es probable que

- A. mantengan una producción a pequeña escala.
- B. maximicen las tasas de beneficios privados y sociales.
- C. saquen el mayor provecho del conocimiento científico.
- D. estimulen a la diversificación de la economía.

34. El diagrama de abajo muestra el cambio en la Frontera de Posibilidades de la Producción (FPP) de un país a lo largo del tiempo.



Un movimiento del punto A en FPP₁ a B en FPP₂ indica

- I. crecimiento económico.
 - II. desarrollo económico.
 - III. recursos no utilizados en el sector manufacturero.
- A. I sólo
 - B. I y II sólo
 - C. II y III sólo
 - D. I, II y III

35. Diga por qué a los países subsaharianos les ha sido difícil atraer inversiones directas extranjeras en los años 90.

- I. La falta de recursos naturales atractivos para las empresas multinacionales
- II. Divisas débiles y un sector público débil
- III. Percepciones en la comunidad empresarial de que en estos países existe un mayor riesgo para la actividad económica

- A. I sólo
- B. I y II sólo
- C. II y III sólo
- D. I, II y III

36. La tabla siguiente muestra la cuota de la renta total recibida por el 40% más pobre de la población para los países seleccionados en 1997.

País	Cuota de la renta del 40% más pobre
Japón	22%
Hong Kong	16%
Méjico	12%
Brasil	7%

Diga por qué estas cifras podrían proporcionar una versión incompleta de la desigualdad relativa a distintos niveles de desarrollo.

- I. No hay información en lo que se refiere a la distribución de la riqueza.
- II. Los sistemas impositivos varían de un país a otro.
- III. La provisión del cuidado de la salud y la Seguridad Social varía de un país a otro.

- A. I sólo
- B. I y II sólo
- C. II y III sólo
- D. I, II y III

- 37.** ¿Cuál de los siguientes es una definición aceptable del desarrollo sostenible?
- A. El desarrollo que satisface las necesidades presentes sin comprometer la habilidad de que las generaciones futuras satisfagan sus propias necesidades
 - B. Una tasa de explotación de los recursos no renovables que no exceda la tasa a la que se desarrollan los recursos renovables
 - C. El reflejo de los precios de mercado en el coste privado de la producción y el consumo de recursos
 - D. El desarrollo que mantiene los niveles mínimos acordados de calidad de vida para las generaciones futuras
- 38.** Un País Menos Desarrollado sigue una estrategia de desarrollo que comprende la reducción del valor de su divisa en relación con la de sus socios comerciales. Es probable que la intención de esta política sea
- A. la de promover las importaciones.
 - B. una reducción de la inflación.
 - C. la de promover las exportaciones.
 - D. la desviación de corrientes comerciales.
- 39.** Diga cuál(es) de los siguientes ha(n) contribuido a la crisis de la deuda de los años 80.
- I. La subida de los tipos reales de interés en los Países Más Desarrollados
 - II. La inelasticidad de la demanda de las exportaciones de los Países Menos Desarrollados
 - III. La depreciación de los tipos de cambio de las divisas de los Países Menos Desarrollados
- A. I sólo
 - B. I y II sólo
 - C. II y III sólo
 - D. I, II y III

40. Diga cuál de los siguientes **no** formaría, por lo general, parte de un programa de ajuste estructural del FMI.
- A. La depreciación o la devaluación de la divisa
 - B. Una política comercial de orientación externa
 - C. Una política de sueldo mínimo
 - D. Una política monetaria y fiscal más restrictiva
-