



ECONOMÍA
NIVEL SUPERIOR
PRUEBA 3

Martes 15 de noviembre de 2005 (mañana)

2 horas

INSTRUCCIONES PARA LOS ALUMNOS

- No abra esta prueba hasta que se lo autoricen.
- Conteste tres preguntas.
- Utilice diagramas correctamente rotulados y ejemplos tomados de la realidad, cuando corresponda.

Conteste **tres** preguntas. Cada pregunta vale [20 puntos].

1. Lea detenidamente el siguiente fragmento y conteste todas las partes de la pregunta que figuran a continuación.

Aumenta la demanda de pollo tras un recorte de los precios

- ❶ La demanda de pollo ha caído tras la amenaza de la gripe aviar¹, que ha hecho que la gente tuviera miedo de comer pollo por miedo a contraer la enfermedad. Como respuesta a esta situación, los avicultores han reducido el precio de venta.
- ❷ Ayer hubo un incremento del 10 % en las ventas tanto de los pollos procesados como de los pollos vivos, y se vendieron unos 800 000 pollos en el mercado nacional. Los recortes de precios se acordaron en una reunión de la Asociación de la Federación de Criadores de Animales de Malasia (AFCAM). La AFCAM es un cártel que fija los precios de venta de animales en Malasia y que controla el 80 % de los proveedores del país. El pollo procesado ahora sólo cuesta 3,20 RM² el kilo, y el pollo vivo 2,80 RM el kilo. Anteriormente los precios eran, respectivamente, 4,00 RM y 3,50 RM.
- ❸ “La respuesta es buena y esperamos que los consumidores se den cuenta de que el pollo que se vende en Malasia es apto para el consumo”, afirmó un portavoz de la AFCAM, quien añadió que el sector se preocupó cuando las ventas cayeron en 300 000 unidades al día tras el brote de gripe aviar en los países vecinos. A diario se destinan aproximadamente 1,1 millones de pollos para satisfacer la demanda de consumo.
- ❹ El portavoz afirmó que la caída de los precios debía vencer el exceso de oferta de pollos en el mercado, y añadió que los criadores avícolas del país estaban llevando a cabo una campaña denominada “Coma Pollo” y además estaban considerando otras medidas de marketing. “Continuaremos con la producción actual de pollo, ya que hemos decidido no reducir la oferta como se había previsto cuando cayeron las ventas”, declaró.
- ❺ Existían temores de que, si se reducía la oferta, tendría que incrementarse el **precio máximo** del pollo que había fijado el Ministerio de Agricultura. La AFCAM estaba considerando la posibilidad de obtener del extranjero el suministro de crías de pollo destinadas a la producción, especialmente de Australia y los países de la Unión Europea, que sustituirían al suministro de los países vecinos, si bien los precios de las nuevas importaciones serían mayores.
- ❻ Los ganaderos tenían la esperanza inicial de que la mala suerte de los avicultores pudiera convertirse en un beneficio para ellos. Sin embargo, ahora es probable que una **elasticidad cruzada de la demanda** positiva y la caída del precio del pollo perjudique a los proveedores de ternera y cordero si continúa aumentando la demanda de pollo.

¹ gripe aviar – enfermedad que contrae el ser humano por ingerir pollo.

² RM – ringit malasio.

[Fuente: adaptado de *The New Straits Times*, Malasia, febrero de 2004]

(Esta pregunta continúa en la página siguiente)

(Continuación de la pregunta 1)

- (a) Defina los siguientes términos, que aparecen marcados en negrita en el texto:
- (i) precio máximo (*párrafo 5*) *[2 puntos]*
 - (ii) elasticidad cruzada de la demanda (*párrafo 6*). *[2 puntos]*
- (b) Utilizando un gráfico de oferta y demanda, explique por qué ha habido un “exceso de oferta de pollos en el mercado” (*párrafo 4*). *[4 puntos]*
- (c) Utilizando un gráfico apropiado, explique el probable efecto que tendrá sobre el mercado de pollos la importación de crías de pollo más caras desde Australia y la Unión Europea. *[4 puntos]*
- (d) Sirviéndose de la información del texto y de su conocimiento de la economía, especialmente de la elasticidad de la demanda, evalúe la situación económica con que se enfrentan los criadores y los consumidores de pollo. *[8 puntos]*

2. Lea detenidamente el siguiente fragmento y los datos y conteste todas las partes de la pregunta que figuran a continuación.

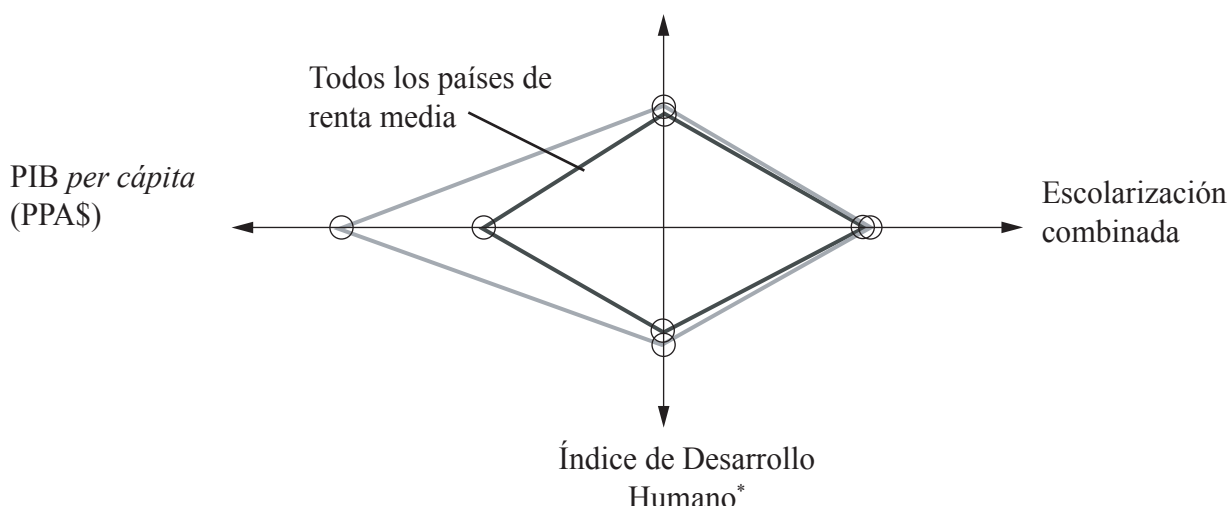
Chile

Chile es una economía pequeña y abierta de Sudamérica. Su principal exportación es el cobre, que supone aproximadamente el 40 % del valor de las exportaciones. Aunque en términos económicos Chile ha mejorado mucho en los últimos años, el coeficiente de Gini aún es aproximadamente del 0,57, una de las cifras más altas del mundo. Los términos del intercambio de Chile se han deteriorado mucho en los últimos diez años y la **cuenta corriente** de la balanza de pagos ha seguido estando en un déficit persistente.

Figura 1: Estadísticas de Chile

Estadísticas	Cifras	Año
Población	15,5 millones	2001
% de población que vive en la pobreza	17 % (40 % - 1987)	1998
% de población que vive en zonas urbanas	86 %	2001
PIB per cápita	US\$ 4350	2001
Agricultura	8,8 % del PIB	2001
Industria	15,8 % del PIB	2001
Servicios	56,9 % del PIB	2001

Figura 2: Rombo de desarrollo, comparación de Chile con todos los países de renta media
Esperanza de vida



* Índice de Desarrollo Humano: indicador compuesto de desarrollo que incluye mediciones de la renta e indicadores de salud y educación.

[Fuente: adaptado de *The Human Development Report 2002* y de *The World Development Report 2003*]

(Esta pregunta continúa en la página siguiente)

(Continuación de la pregunta 2)

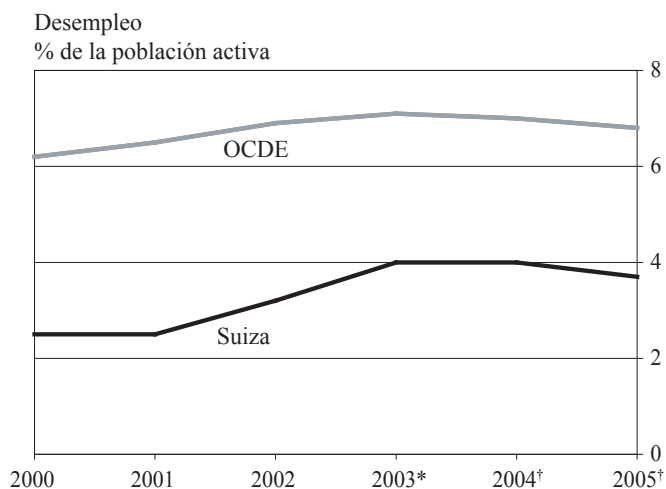
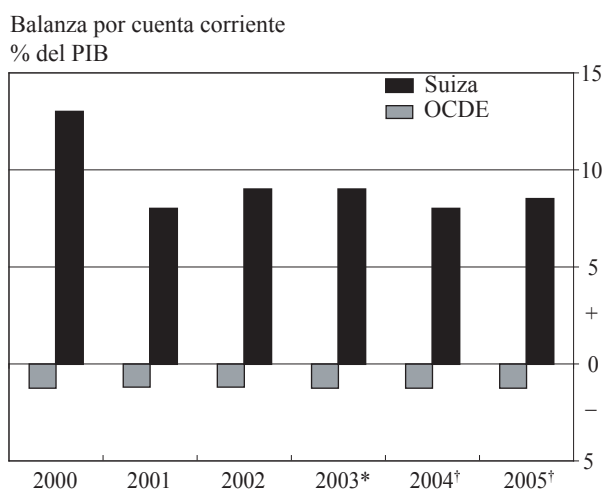
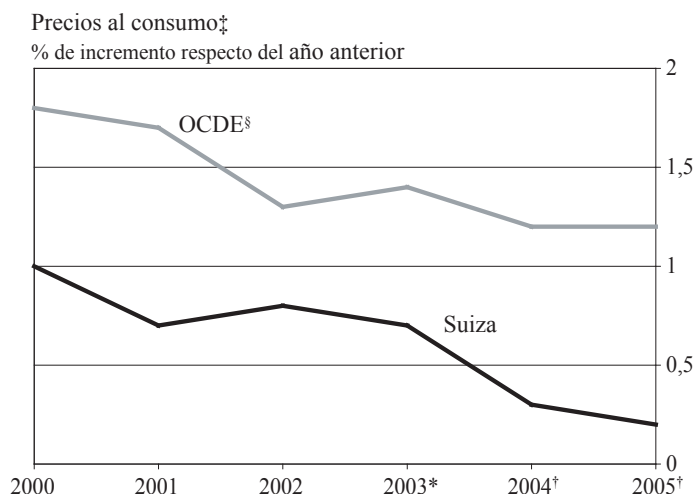
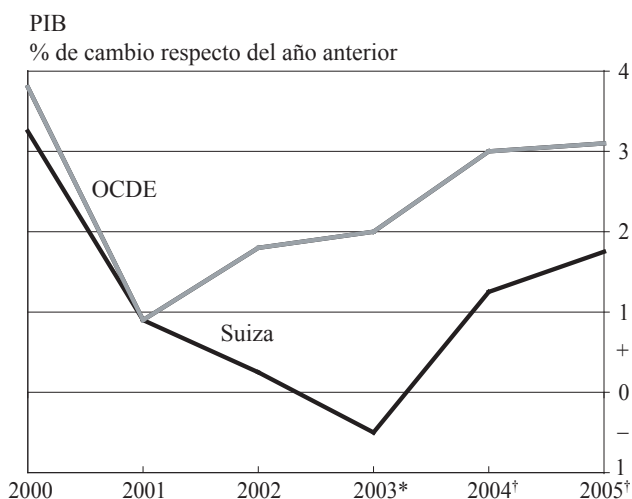
- (a) Defina los siguientes términos, que aparecen marcados en negrita en el texto:
 - (i) **cuenta corriente** (*el texto*) [2 puntos]
 - (ii) **PIB per cápita** (*figura 1*). [2 puntos]
- (b) Utilizando un gráfico de oferta y demanda, explique por qué Chile puede verse perjudicado por su excesiva dependencia del cobre para lograr ingresos por exportaciones. [4 puntos]
- (c) Utilizando un gráfico apropiado, explique la frase “el coeficiente de Gini aún es aproximadamente del 0,57, una de las cifras más altas del mundo”. [4 puntos]
- (d) Sirviéndose de la información del texto, de las cifras y de su conocimiento de la economía, evalúe la situación con que se enfrenta la economía chilena. [8 puntos]

3. Lea detenidamente el siguiente fragmento y los datos y conteste todas las partes de la pregunta que figuran a continuación.

Suiza

La economía suiza se ha visto perjudicada en los dos últimos años porque las empresas han recortado la **inversión** y han ido reduciendo gradualmente sus existencias en respuesta a la recesión mundial. Las exportaciones también se han visto dañadas por la apreciación del franco suizo. La producción se estancó en el año 2002 y en el 2003 cayó un 0,5 %, y es probable que sólo se dé una recuperación modesta en los próximos dos años. La OCDE* predice un crecimiento del PIB del 1,2 % en el año 2004 y del 1,8 % en el 2005, lo que aún así dejará a la economía funcionando por debajo de su capacidad. Como resultado, se prevé que la **inflación** de los precios al consumo se reduzca en un 0,2 % en el año 2005. La OCDE afirma que, con unos tipos de interés que prácticamente han tocado fondo, el Banco Nacional Suizo debería estar preparado para tomar medidas si surgieran presiones deflacionarias. Si fuera necesario, la OCDE recomienda una estrategia de intervención en los mercados de divisas extranjeras para debilitar el franco suizo.

* La OCDE es la Organización para la Cooperación y el Desarrollo Económicos (fundada en 1961).
Sus miembros son los países de la Unión Europea, EEUU, Canadá, Japón, Nueva Zelanda, Australia, México y Turquía.



* Estimación † Pronóstico ‡ Deflactor del consumo privado § Con la exclusión de Hungría, México, Polonia y Turquía
[Fuente: adaptado de *The Economist*, © The Economist Newspaper Limited, Londres, 28 de febrero de 2004]

(Esta pregunta continúa en la página siguiente)

(Continuación de la pregunta 3)

- (a) Defina los siguientes términos, que aparecen marcados en negrita en el texto:
- (i) inversión (*el texto*) *[2 puntos]*
 - (ii) inflación (*el texto*). *[2 puntos]*
- (b) Utilizando un gráfico apropiado, explique lo que se quiere decir al afirmar que “la economía [estará] funcionando por debajo de su capacidad”. *[4 puntos]*
- (c) Utilizando un gráfico apropiado, explique cómo puede provocar el Banco Nacional Suizo el cambio deseado en el franco suizo. *[4 puntos]*
- (d) Sirviéndose de la información del texto, de los gráficos y de su conocimiento de la economía, evalúe el comportamiento de la economía suiza. *[8 puntos]*

4. Lea detenidamente el siguiente fragmento y conteste todas las partes de la pregunta que figuran a continuación.

Guerras de precios

- ❶ Hace tres años, la llegada de un gran supermercado a Kempsey (Australia) supuso un estímulo para una ciudad que ya estaba recuperándose de un período de **recesión**.
- ❷ Al supermercado de *Woolworths* -con un banco-, a la licorería de *Woolworths* y a la gasolinera de *Woolworths* pronto se sumaron unos grandes almacenes *Woolworths* con un centro de revelado de fotografías y uno de jardinería.
- ❸ Pero tres años más tarde, Kempsey se ha encontrado con algunos costos externos imprevistos. El antiguo centro comercial del centro de la ciudad se ha quedado parcialmente vacío y otras partes de la ciudad “casi desiertas”. Para conservar a los clientes, las empresas han ido gravitando desde el centro de la ciudad hacia el “reino” de *Woolworths* en la carretera principal.
- ❹ Los comerciantes locales intentaron competir invirtiendo en la remodelación de sus comercios y en la formación del personal, pero su incapacidad para igualar los precios de una gran sociedad anónima que se ha expandido hasta cubrir mercados especializados (panaderías, floristerías y muy pronto farmacias) está causando preocupación por el futuro de una ciudad en la que un porcentaje cada vez mayor de la renta disponible de sus residentes se está sacando de la ciudad en un camión de *Woolworths*.
- ❺ Bob Barron, que ha vendido su tienda de prensa después de 15 años, afirma que las ventas de libros y vídeos cayeron de un modo significativo porque *Woolworths* los vendía un 30 % más baratos. “Nosotros no podemos competir ... ¡ese es el precio al que los compramos!”, afirma el señor Barron.
- ❻ Wayne Perks, dueño de una gasolinera en la misma carretera que *Woolworths*, califica la política de precios del supermercado de “devastadora”. El mes pasado, de forma muy discreta, escribió a sus clientes ofreciéndoles igualar el descuento de 4 céntimos por litro de *Woolworths*, y la empresa respondió rebajando aún más los precios de la gasolina. El señor Perks dice que él a esto no lo llama competencia, sino “eliminación”.
- ❼ Los grandes hipermercados utilizan su enorme poder adquisitivo para exigir a los proveedores precios más bajos, y argumentan que es el consumidor el que gana si los precios son más bajos. *Woolworths* afirma que su ventaja en los precios se debe a las **economías de escala**: “vender a un precio que refleje estas estructuras de costos no supone una política de fijación de precios, desleales ya que nuestros costos son más bajos que los de nuestros competidores”.
- ❽ Pero los consumidores temen que los precios aumenten en el futuro, cuando no haya competencia. En Australia, este riesgo aumenta por la concentración de mercado, ya que *Coles Myer* y *Woolworths* controlan el 77 % de las ventas de ultramarinos empaquetados.

[Fuente: adaptado de *Trolley Wars*, www.smh.com.au, 6 de octubre de 2003]

(Esta pregunta continúa en la página siguiente)

(Continuación de la pregunta 4)

- (a) Defina los siguientes términos, que aparecen marcados en negrita en el texto:
 - (i) recesión (*párrafo 1*) [2 puntos]
 - (ii) economías de escala (*párrafo 7*). [2 puntos]
- (b) Utilizando un gráfico apropiado, explique cómo el establecimiento de unos grandes almacenes *Woolworths* en Kempsey ha creado costos externos. [4 puntos]
- (c) Utilizando un gráfico apropiado, explique por qué *Woolworths* puede vender sus productos a precios más bajos que los comercios locales. [4 puntos]
- (d) Sirviéndose de la información del texto y de su conocimiento de la economía, evalúe el siguiente punto de vista: el gobierno australiano debería regular el comportamiento de *Woolworths*. [8 puntos]

5. *Lea detenidamente el siguiente fragmento y conteste todas las partes de la pregunta que figuran a continuación.*

Mantengamos los aranceles sobre el acero

Esta es una carta al Editor enviada por Leo Gerard, Presidente Internacional de los Trabajadores Unidos del Acero de Norteamérica

- ❶ Hace dieciocho meses, la industria del acero de EEUU estaba en la ruina. Años de comercio exterior desleal y **competencia desleal** habían devastado nuestro mercado interno, y los resultados eran sombríos: más de 30 empresas en la quiebra, 17 empresas liquidadas y más de 50 000 puestos de trabajo destruidos, además de la pérdida de las prestaciones de la Seguridad Social por parte de más de 200 000 trabajadores a punto de jubilarse.
- ❷ El Presidente Bush se percató de este grave peligro y puso en marcha un programa de tres años de imposición de aranceles sobre determinados productos de acero. Su objetivo era proteger los puestos de trabajo industriales en Estados Unidos, ayudar a la industria acerera a recuperarse logrando de nuevo su **ventaja comparativa**, y defender el principio de que el comercio libre debe ser justo.
- ❸ Las empresas se están beneficiando en todo el sector. Los trabajadores y los empresarios han llegado a acuerdos que aumentan la productividad del trabajador y reducen algunos niveles innecesarios de dirección. La productividad ha aumentado, y se han invertido billones de dólares en nuevas tecnologías y en la mejora de las instalaciones. Nada de esto habría sido posible sin el tiempo extra que ha proporcionado este programa de tres años de imposición de aranceles sobre el acero.
- ❹ Tan importante como esto es que no se hayan cumplido las lúgubres previsiones de los opositores a este programa de aranceles. Los precios del acero en EEUU están entre los más bajos del mundo y el suministro está disponible sin problema alguno. Sobre todo, los mayores consumidores de acero están en una posición más competitiva hoy que antes de que se introdujera el programa.
- ❺ Hemos avanzado mucho, pero aún queda mucho por hacer. La reconstrucción de un sector no debe ser un suceso, sino un proceso, y estamos más o menos en la mitad de dicho proceso.
- ❻ El programa del acero del Presidente tenía planeada una reducción gradual de los aranceles a lo largo de tres años. A pesar de sus detractores, ahora el reto es continuar con este programa de forma que los cambios drásticos que han sido posibles gracias a los aranceles puedan afianzarse por completo y conformar los cimientos de una fortaleza duradera. Confiamos en que el Presidente continúe cumpliendo con su palabra para que este sector vital pueda seguir con su recuperación y los puestos de trabajo industriales puedan estar a salvo en los Estados Unidos.

[Fuente: adaptado de *The Washington Post*, octubre de 2003]

(Esta pregunta continúa en la página siguiente)

(Continuación de la pregunta 5)

- (a) Defina los siguientes términos, que aparecen marcados en negrita en el texto:
- (i) competencia desleal (*párrafo 1*) *[2 puntos]*
 - (ii) ventaja comparativa (*párrafo 2*). *[2 puntos]*
- (b) Con la ayuda de un gráfico de oferta y demanda, muestre los efectos de los aranceles de EEUU sobre el acero importado. *[4 puntos]*
- (c) Con la ayuda de un gráfico apropiado, explique **una** política proteccionista (diferente a los aranceles) que podría utilizar el gobierno norteamericano para apoyar a la industria acerera nacional. *[4 puntos]*
- (d) Sirviéndose de la información del texto y de su conocimiento de la economía, evalúe los argumentos a favor y en contra del proteccionismo en la industria acerera. *[8 puntos]*
-